

BOM DIA, REALIZAR TODAS AS ATIVIDADES COM CAPRICHOS,
COMEÇAR SEMPRE FAZENDO A DATA DIARIAMENTE, AO
FINALIZAR PASSAR O TRAÇO USANDO RÉGUA, LEMBRE-SE
TAMBÉM DE PULAR LINHA.

REALIZAR AS ATIVIDADES NO CADERNO, FOTOGRAFAR E MANDAR
PARA A PROFESSORA.

ESTAMOS JUNTOS NESSA CAMINHADA.

BONS ESTUDOS!

Municipal Lindaura Eleutério da Luz
Vista Alegre, ____ de abril de 2020

Diretora: Adriana Maria Tonial Piaia

Professora: _____

Aluno (a): _____

2º Ano:

- 1) Leia e copie a música.



2) Complete a música coelho da páscoa corretamente:

Coelho da _____

O que trazes pra mim?

Um _____, dois _____, _____ ovos assim

Coelho da páscoa

Que cor eles tem?

_____, amarelo, _____ também.

3) Acróstico da Páscoa.

P
Á
S
C
O
A

4) Desenhe:

A) 1 dúzia de ovos.


B) ½ dúzia de pirulitos.

C) 1 dúzia de laranjas.


D) 1 dúzia e meia de balas.

FIGURAS GEOMÉTICAS


DESENHE, PINTE E COPIE O NOME DE CADA FIGURA




QUADRADO



RETÂNGULO



TRIÂNGULO



CÍRCULO

5) Com ajuda da família confeccionar a massinha de modelar.

RECEITA DE MASSA DE MODELAR

INGREDIENTES:

2 XÍCARAS DE FARINHA DE TRIGO

½ XÍCARA DE SAL

1 XÍCARA DE ÁGUA

1 COLHER DE ÓLEO

MODO DE PREPARO:

JUNTAR TODOS OS INGREDIENTES EM UMA BACIA E AMASSAR BEM.

OPÇÕES PARA COLORIR A MASSA:

TINTA GUACHE; SUCO; GELATINA; CORANTE PARA BOLO.

GURDAR EM UM POTINHO COM TAMPA NA GADEIRA. DURA APROXIMADAMENTE UMA SEMANA.

ESTA BRINCADEIRA ESTIMULA:

- CRIATIVIDADE;
- MOTRICIDADE;
- CONTOLE DA FORÇA MUSCULAR;
- CONCENTRAÇÃO; ATENÇÃO; ESTIMULA APRENDIZAGEM DA MATEMÁTICA; DESENVOLVE A ORALIDADE E A SOCIALIZAÇÃO

6) Utilize a massinha e confeccione um ou mais personagens com formas geométricas.

7) Escreva uma história bem legal sobre os personagens que você criou.

8) Ilustre a história que você escreveu.

9) Convide alguém da sua família para brincar com você, faça uma frase sobre o que mais gostou.

10) Separe as palavras em sílabas.

- A) Massinha
- B) Família
- C) Diversão
- D) Colaboração
- E) Aventura
- F) União

11) Organize as palavras em ordem alfabética e separe as sílabas.

- A)
- B)
- C)
- D)
- E)

12) Copie , observe os números e responda:

0- 1- 2- 3 - 7- 8- 10- 12- 15 -18-19- 20

- A) O número 3 está entre o ____ e _____.
- B) Qual o primeiro número da fila?_____.
- C) Qual o último número da fila?_____.
- D) O número 10 está entre o ____e_____.
- F) O número 12 está antes do_____.
- G). O número 7 está depois do_____.

13) Resolva as adições:

$$\begin{array}{r} 63 \\ + 24 \\ \hline \end{array}$$

$$\begin{array}{r} 42 \\ + 50 \\ \hline \end{array}$$

$$\begin{array}{r} 15 \\ + 63 \\ \hline \end{array}$$

$$\begin{array}{r} 71 \\ + 6 \\ \hline \end{array}$$

$$\begin{array}{r} 45 \\ + 32 \\ \hline \end{array}$$

$$\begin{array}{r} 86 \\ + 12 \\ \hline \end{array}$$

$$\begin{array}{r} 16 \\ + 52 \\ \hline \end{array}$$

$$\begin{array}{r} 45 \\ + 34 \\ \hline \end{array}$$

$$\begin{array}{r} 50 \\ + 19 \\ \hline \end{array}$$

$$\begin{array}{r} 61 \\ + 17 \\ \hline \end{array}$$

$$\begin{array}{r} 42 \\ + 36 \\ \hline \end{array}$$

$$\begin{array}{r} 54 \\ + 22 \\ \hline \end{array}$$

$$\begin{array}{r} 35 \\ + 41 \\ \hline \end{array}$$

$$\begin{array}{r} 27 \\ + 31 \\ \hline \end{array}$$

$$\begin{array}{r} 30 \\ + 49 \\ \hline \end{array}$$

$$\begin{array}{r} 15 \\ + 72 \\ \hline \end{array}$$

$$\begin{array}{r} 23 \\ + 54 \\ \hline \end{array}$$

$$\begin{array}{r} 41 \\ + 18 \\ \hline \end{array}$$

$$\begin{array}{r} 20 \\ + 59 \\ \hline \end{array}$$

$$\begin{array}{r} 62 \\ + 16 \\ \hline \end{array}$$

$$\begin{array}{r} 44 \\ + 33 \\ \hline \end{array}$$

$$\begin{array}{r} 51 \\ + 26 \\ \hline \end{array}$$

$$\begin{array}{r} 36 \\ + 61 \\ \hline \end{array}$$

$$\begin{array}{r} 25 \\ + 42 \\ \hline \end{array}$$

$$\begin{array}{r} 72 \\ + 12 \\ \hline \end{array}$$