

BOM DIA, LEMBREM- SE DE LER TODOS OS DIAS E FAZER A DATA ANTES DE INICIAR AS ATIVIDADES.

BONS ESTUDOS!

VISTA ALEGRE, 20 DE ABRIL DE 2020

DIRETORA: ADRIANA M. TONIAL PIAIA


PROFESSORA: ANDRIANA WENSEL TOTTI

ALUNO(A): _____

SEGUNDA-FEIRA

ATIVIDADE DE PORTUGUÊS

COPIE O TEXTO




A LETRA **F** APARECE NO FOGO E NA FUMAÇA,
NA FIVELA E NA FITA ESTÁ SEMPRE PRESENTE.
ADORA A FADA MADRINHA!
NUNCA DEIXA DE BRINCAR NO MEIO DA FARINHA,
SEMPRE VOA NO FOGUETE E SE ESCONDE NA FAROFA.

1) CIRCULE AS PALAVRAS COM F DE LÁPIS VERDE.

2) COPIE AS PALAVRAS DO TEXTO COM A LETRA F.

3) 3) DESENHE TRÊS OBJETOS COM F.



4) FAÇA OS NÚMEROS DE 0 A 30:

VISTA ALEGRE, 22 DE ABRIL DE 2020

DIRETORA: ADRIANA M. TONIAL PIAIA

PROFESSORA: ANDRIANA WENSEL TOTTI

ALUNO(A): _____

QUARTA-FEIRA

ATIVIDADE DE PORTUGUÊS

Copie no caderno:

LEIA AS SÍLABAS ABAIXO, COMPLETE O NOME DOS DESENHOS E ESCREVA.

FA FE FI FO FU



___SFORO



___TA



___MAÇA



___GO



___RRO



___BRICA

RECORTE PALAVRAS DE REVISTA, JORNAIS OU EMBALAGENS, COM A LETRA F E COLE NO SEU CADERNO.

1) COMPLETE COM F.

___ÁRMARCIA

ELE___ANTE

___OGÃO

GAR___O

___ARO___A

O___ENSA

___LORES

TRU___A

TA___AREL

FAÇA A LEITURA DAS PALAVRAS QUE VOCÊ ENCONTROU.

ATIVIDADE DE MATEMÁTICA

1) ARME E RESOLVA

a) $9+4=$

b) $8+5=$

c) $6+6=$

d) $7+5=$

e) $2+6=$

f) $5+4=$

g) $8+2=$

h) $1+9=$

i) $7+8=$

j) $2+7=$

VISTA ALEGRE 23 DE ABRIL DE 2020

DIRETORA: ADRIANA M. TONIAL PIAIA


PROFESSORA: ANDRIANA WENSEL TOTTI

ALUNO(A): _____ 1º ANO


QUINTA- FEIRA

ATIVIDADE DE HISTÓRIA

ESTA É A FAMÍLIA DE ZEZINHO E ANINHA. ELES TÊM MAIS UM IRMÃOZINHO, O PAULINHO. SEUS PAIS CHAMAM-SE ANTÔNIO E MARIA.



E SUA FAMÍLIA, COMO É? VAMOS DESENHÁ-LA?



1) ESCREVA O NOME DOS SEUS FAMILIARES QUE VOCÊ DESENHOU.

ATIVIDADE DE MATEMÁTICA

SITUAÇÃO PROBLEMA

1) MAMÃE RECOLHEU 5 OVOS DA GALINHA CARIJÓ E 6 DA GALINHA PRETA.

QUANTOS OVOS MAMÃE RECOLHEU?

R: _____

2) EU TINHA 12 PIRULITOS CHUPEI 4, COM QUANTOS PIRULITOS FIQUEI?

R: _____

VISTA ALEGRE 24 DE ABRIL DE 2020

DIRETORA: ADRIANA M. TONIAL PIAIA

PROFESSORA: ANDRIANA WENSEL TOTTI

ALUNO(A): _____

1º ANO

SEXTA-FEIRA

CLIC NO LINK ASSEGUIR E ASSISTA UM VIDEO SOBRE OS ÍNDIOS.

<https://youtu.be/JPa0Epb7BvE>

ATIVIDADE DE GEOGRAFIA

1) COMPLETE CONFORME O DESENHO

O POVO INDÍGENA

BLOG ALFABETIZAÇÃO DIVERTIDA - PROFª. DANIELA G. OLIVEIRA

O DIA DO  _____ É COMEMORADO EM 19 DE ABRIL.

A CASA DOS ÍNDIOS É A  _____.

ELES VIVEM REUNIDOS EM UMA COMUNIDADE CHAMADA  _____

QUE É LIDERADA PELO  _____.

PARA CAÇAR, USAM O  _____ E A  _____.

SEU MEIO DE TRANSPORTE É A  _____.

GOSTAM DE SE ENFEITAR USANDO O  _____ E PINTANDO O CORPO.

ELES AMAM A NATUREZA E NELA TUDO É RESPEITADO E CONSERVADO.

OS POVOS INDÍGENAS FORAM OS PRIMEIROS HABITANTES DO BRASIL E CONTRIBUÍRAM MUITO PARA A FORMAÇÃO DA CULTURA BRASILEIRA.

ATIVIDADE DE ARTE

1)DESENHE OBJETOS DA CULTURA INDIGENA COMO: OCA, COCAL, FLECHA, ARCO, POTES, CANOA, ETC.

2) PINTE E DECORE COM MATERIAIS QUE VOCÊ TEM DISPONIVEL EM CASA.