

**Bom dia, lembrem- se de todos os dias: ler e fazer a data antes de iniciar as atividades.**

**Bons estudos!**

Escola Municipal Lindaura Eleutério da Luz

Vista Alegre, 20 de abril de 2020

Diretora: Adriana M. Tonial Piaia

Professora:

Aluno (a): .....

2º Ano

**Segunda- feira**

**LÍNGUA PORTUGUESA**

**Façam a leitura do texto e depois copie em seu caderno.**

### **O índio**

Numa homenagem sincera  
aos índios do Brasil  
festejamos com orgulho  
o dezenove de abril.

Povo de raça vermelha  
que sabe caçar e pescar  
mas só mata quando precisa  
a sua fome matar.

**\*Assistir o vídeo sobre os índios**

<https://youtu.be/MDwJO1InERQ>

\*Pesquisar com a família:

Costumes indígenas.

Desenhe em seu caderno, o que você entendeu sobre a cultura indígena.

## MATEMÁTICA

80	79	32	59
<u>+18</u>	<u>+11</u>	<u>+72</u>	<u>+64</u>

58	64	78	29
<u>-34</u>	<u>-36</u>	<u>-15</u>	<u>-17</u>

Escola Municipal Lindaura Eleutério da Luz

Vista Alegre, 22 de abril de 2020

Diretora: Adriana M. Tonial Piaia

Professora:

Aluno (a) : .....

2º Ano

**Quarta-feira**

**CIÊNCIAS**

**Ler, copiar e responder no caderno.**

### **A vida na terra**

A vida na terra depende dos recursos existentes na natureza.

Esses recursos são: O solo, o sol, a água, o ar, as plantas e os animais.

1-Assinale com **X** as afirmativas corretas:

( ) A riqueza da biodiversidade é um verdadeiro tesouro para a humanidade.

( ) Lugares com muitas plantas são ambientes poluídos.

( ) O pantanal, a floresta Amazônica e a Mata Atlântica são ambientes brasileiros cheios de vida.

( ) Tudo o que existe, incluindo o que represente os recursos existentes na natureza.

# MATEMÁTICA

## Problemas de adição

1- Na turma de Raquel, há 20 meninos e 16 meninas. Qual é o número total de alunos?

Resposta: \_\_\_\_\_

2- Marcela tem R\$ 10,00 e Jair tem R\$ 15,00. Quantos reais eles tem juntos?

Resposta: \_\_\_\_\_

3- Continue a sequência de 2 em 2 de 50 a 80.

50-52-

---

---

---

---

---

---

---

---

Escola Municipal Lindaura Eleutério da Luz

Vista Alegre, 23 de abril de 2020

Diretora: Adriana M. Tonial Piaia

Professora:

Aluno (a): ..... 2º Ano

Quinta-feira

## LÍNGUA PORTUGUESA

1- Copie o texto a seguir, leia e responda as questões no caderno:



A RITA VÊ O RATO NA CASA. O RATO ROEU A ROUPA DELA.

A RITA CHAMA A MÃE. A MÃE TEM MEDO E PULA PARA A MESA.

O RATO VAI PARA A RUA E SE ESCONDE ATRÁS DO VASO.

### INTERPRETAÇÃO DO TEXTO

1- O QUE A RITA VÊ? \_\_\_\_\_





2- A \_\_\_\_\_ CHAMA A \_\_\_\_\_.

A MÃE PULA PARA A \_\_\_\_\_.

3- PARA ONDE VAI O RATO? \_\_\_\_\_

\_\_\_\_\_

Copie e resolva:

a)  b)  c)  d) 

2) Observe os números abaixo:

58 – 27 – 35 – 12 – 42 – 169 – 7 – 94 – 281 –

a) Copie os números na ordem crescente:

---

b) Copie todos os números pares:

---

c) Copie todos os números ímpares:

---

d) Escreva por extenso o maior número representado acima.

---

---

Escola Municipal Lindaura Eleutério da Luz  
Vista Alegre, 24 de abril de 2020

Diretora: Adriana M. Tonial Piaia

Professora:

Aluno (a) : .....

2º Ano


**Sexta – feira**

Copiar, ler e responder:

*Língua Portuguesa*

**O cachorro de Alice**

Alice tem um cachorro de raça.  
O cachorro se chama Fumaça.  
Fumaça gosta de passear com Alice.  
Na rua, Fumaça é muito bravo. Se alguém caça de Alice, ele logo começa a latir.  
A criançada da vizinhança acha Fumaça um cachorro muito valente.



Lídia M. Moraes

Leia o texto com atenção e depois complete as frases:

a) \_\_\_\_\_ tem um cachorro de raça.

b) O cachorro se chama \_\_\_\_\_.

c) \_\_\_\_\_ gosta de passear com \_\_\_\_\_.

2) Responda

a) Como é o cachorro Fumaça?

\_\_\_\_\_

\_\_\_\_\_

# GEOGRAFIA

Copie no caderno:

## As Mudanças do Tempo

As mudanças de tempo acontecem durante todo o ano e temos que estar preparados com roupas adequadas de acordo com cada clima.

### Questão 01:

Ir a praia é muito bom! Observe bem as imagens abaixo e risque o clima mais apropriado para ir à praia:

Chuva

Frio

calor

É para que possamos acompanhar as mudanças climáticas com saúde, é necessário o uso de roupas adequadas a cada clima.

### Questão 02:

Das opções abaixo envolva as que você usaria num dia bem frio:

Casaco

Biquíni

Luvras

cachecol

### Questão 02:

Existem atividades que são mais gostosas de serem realizadas de acordo com cada clima!

Marque com x o que for quente e circule o que for frio.



Picolé



sopa

## Arte

Desenhe em seu caderno, o que você entendeu sobre a cultura indígena.