

C. E. M. Marcelino Ivo Dalla Costa

Diretora: Adriana Piaia

Professora: Tânia Zanata

Aluno(a): _____ 3º ano

Três Pinheiros, 27 de abril de 2020

SEGUNDA - FEIRA

***LEIA O TEXTO COM ATENÇÃO:**



Maricota, a centopéia cantora

Maricota aprendeu a voar e a nadar. Mas, faltava alguma coisa. Ela queria aprender a cantar.

Ao ouvir os lamentos da centopéia, o bem-te-vi ofereceu-se para ensiná-la a cantar.

Os dois ensaiaram dias e dias debaixo do pé de Ingá. A centopéia se esforçava, mas, seu canto era tão ruim, que assustava a bicharada.

Dona Coruja, que observou a trajetória da centopéia, disse-lhe:

— Maricota, você já voou, já nadou e ainda insiste em cantar?

— Claro, Dona Coruja! Eu sei que posso!

— Maricota, você nunca será uma cantora! Deus deu o talento de cantar para o bem-te-vi, o sabiá, o pássaro preto, o curió... Deus dá para cada um os talentos que merece.

Já cansada a centopéia resolveu desistir:

— Obrigado, senhor bem-te-vi, eu concordo com a amiga coruja. De hoje em diante eu vou utilizar melhor, os talentos que Deus me entregou.

Maricota, a centopéia sonhadora, voltou cantarolando para sua casinha depois de ter realizado parte dos seus sonhos.

Estudo do texto

Copie as perguntas e resposta:

a) O que Maricota queria aprender?

R: _____

B) Para quais animais Deus deu o talento para cantar?

R: _____

C) Quem se ofereceu para ajudá-la?

R: _____

D) Depois de realizar parte de seus sonhos, o que ela fez?

R: _____

GEOGRAFIA

1-Copie e leia o texto

As paisagens dos lugares

São muitos espaços que formam o campo. Espaços de vivências, espaços naturais e de produção.

O campo é um lugar localizado dentro de uma área do município. O município é formado pela área urbana, que é a cidade e pela área do campo chamada de área rural.

Se der um passeio pelos lugares, verá muitas paisagens que são formadas por elementos naturais: montanhas, rios, florestas e por elementos culturais, que são criados ou modificados pelo ser humano construindo casas, prédios, fábricas.

2- Faça um desenho que apresente os dois tipos de paisagem:

3-Arme e resolva as adições:

$$246+38=$$

$$165+82=$$

$$182+116=$$

$$362+135=$$

$$304+65=$$

$$420+142=$$

$$513+71=$$

C. E. M. Marcelino Ivo Dalla Costa

Diretora: Adriana Piaia

Professora: Tânia Zanata

Aluno (a): _____ 3º ano

Três Pinheiros, 28 de abril de 2020

TERÇA - FEIRA

CIÊNCIAS

1- Copiar o texto:

Os animais

Os animais são seres vivos, ou seja: nascem, crescem, morrem e possuem capacidade de reprodução. Cada espécie possui suas características próprias, como, cor, tamanho, tipo de alimentação e ambiente em que vive.

Os animais apresentam diversas formas de locomoção, podendo andar, nadar, saltar, voar, rastejar, ou não se locomover.

O corpo dos animais podem ser cobertos de penas, pelos, escamas e carapaça.

O lugar onde os animais vivem chama-se habitat.

OBS: CARAPAÇA- Cobertura resistente e rígida que envolve e protege o corpo dos animais.

Ex: Tartaruga, tatu....

2- Desenhe dois animais com o corpo coberto de pelos. Escreva o nome abaixo de cada um deles. Pinte bem bonito.

3- Escreva dois animais que vivem na:

- Terra= _____
- Água= _____

4- Cálculo mental:

$90+40=$

$60+20=$

$30+10=$

$80+5=$

$50+50=$

$100+10=$

$100+20=$

C. E. M. Marcelino Ivo Dalla Costa

Diretora: Adriana Piaia

Professora: Tânia Zanata

Aluno(a): _____ 3º ano

Três Pinheiros, 29 de abril de 2020

QUARTA-FEIRA

ENSINO RELIGIOSO

1- Copiar e ler o texto.

DEUS nos criou e sabe o que é bom para nós. Ao criar o homem e a mulher Deus instituiu a família humana, e nossos pais trabalham para o sustento da família.

A família deve viver unida, onde o respeito e o amor são fundamentais para que tudo fique bem em nosso lar.

Na vivência familiar o trabalho das crianças é estudar, mas posso ajudar meus pais em pequenas tarefas.

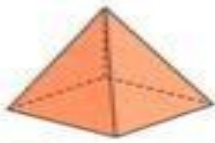
2- Responda:

A) Que trabalho eu posso fazer para ajudar minha família, além de estudar?

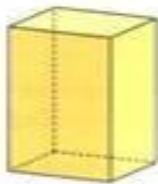
R: _____

3- Represente com um desenho a profissão de seu pai e de sua mãe. Faça bem bonito e pode colorir.

4-Observe as figuras geométricas espaciais abaixo:



pirâmide de base quadrada



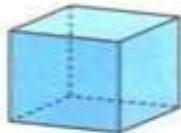
paralelepípedo



cilindro



cone



cubo



prisma de base triangular



esfera

a) Procure em sua casa três objetos que se pareçam com as formas geométricas espaciais e desenhe, a forma e o objeto encontrado.

5-Escreva o nome do sólido geométrico que as figuras abaixo lembram:

Uma laranja lembra: _____



A casquinha do sorvete lembra: _____



Uma caneca lembra: _____



C. E. M. Marcelino Ivo Dalla Costa

Diretora: Adriana Piaia

Professora: Tânia Zanata

Aluno (a): _____ 3º ano

Três Pinheiros, 30 de abril de 20

QUINTA-FEIRA

1- Copiar o texto e fazer a leitura

DIA DO TRABALHO

O homem sempre precisou trabalhar para sobreviver.

Somos seres sociais e precisamos uns dos outros, cada um na sua profissão são igualmente necessários.

A comunidade depende tanto do médico, do professor, do agricultor entre outras profissões.

Comemorado no dia **1 de maio o Dia do Trabalho, ou Dia do Trabalhador.**

É uma data comemorativa usada para celebrar as conquistas dos trabalhadores ao longo da história.

2-Desembaralhe as sílabas e descubra qual profissão está escondida:

câ-ni-me- co= _____

tis-den-ta= _____

fes-sor-pro= _____

gri- a-tor-cul= _____

to-mo-ta-ris= _____

di -mé-co= _____

bal-ta-co-nis= _____

ro-pe-drei= _____

3-Resolva as subtrações:

$$98-34=$$

$$162-21=$$

$$186-150=$$

$$295-163=$$

$$349-108=$$

$$374-232=$$

$$367-103=$$

$$382-180=$$