

Centro Educacional Municipal Marcelino Ivo Dalla Costa

Diretora: Adriana Tonial Piaia

Professora: Cleuci Fátima dos Santos

Aluno:.....

2º ano

Três Pinheiros, 18 de maio de 2020

Hoje é segunda- feira

Copie o texto:

⇒ LEIA O TEXTO ABAIXO E CIRCULE AS PALAVRAS QUE CONTEHAM AS SÍLABAS TERMINADAS EM AN, EN, IN, ON E UN:

## A MENINA ANGÉLICA



ADRIANA FELISBINO

ANTES DE SE MUDAR PARA A ÁFRICA, ANGÉLICA ADORAVA FICAR EM CASA. NÃO GOSTAVA DE SAIR PARA BRINCAR COM NINGUÉM.

AGORA ELA SE INTERESSA PELAS ONÇAS QUE SEU PAI ÂNGELO CUIDA.

ANGÉLICA PERGUNTA TUDO SOBRE OS ANIMAIS, INVENTA QUE É VETERINÁRIA E BRINCA QUE ESTÁ CUIDANDO DOS BICHOS QUANDO ESTÃO DOENTES. ANGÉLICA É MUITO CRIATIVA!

⇒ DESENHE SOBRE O TEXTO:



# **T**RABALHANDO O TEXTO!

⇒ 1) QUEM MUDOU PARA A ÁFRICA?

**QUAL É O INTERESSE DE ANGÉLICA AGORA?**

**O QUE A MENINA INVENTA?**


**SOBRE O QUÊ ELA SEMPRE PERGUNTA?**

⇒ 2) LEIA E DESENHE:

**DENTE**




**ÍNDIO**



**PENTE**



**GENTE**



Centro Educacional Municipal Marcelino Ivo Dalla Costa

Diretora: Adriana Tonial Piaia

Professora: Cleuci Fátima dos Santos


Aluno:.....

2º ano

Três Pinheiros, 19 de maio de 2020

Hoje é terça- feira

Copie as palavras e separe as sílabas:



**ANJO**

**AN - EN - IN - ON - UN**


CANTOU	FANTA	QUANTA
PENTE	SENTOU	MENTIRA
TINTA	LINDO	MINGAU
PONTA	CONTA	PONTE
MUNDO	NUNCA	FUNDO

Religião:

## A IMPORTÂNCIA DO AMOR

O Amor é o sentimento mais bonito que o ser humano possui. É com amor que devemos fazer tudo: trabalhar, estudar e brincar. Devemos amar principalmente as pessoas de nossa família e amigos.

Devemos tratar com amor todos os animais, respeitando cada um e o seu direito de um lugar no mundo.



✍ ESCREVA UMA FRASE PARA UMA PESSOA QUE VOCÊ AMA.

Faça um desenho bem bonito pra sua família:

Centro Educacional Municipal Marcelino Ivo Dalla Costa

Diretora: Adriana Tonial Piaia

Professora: Cleuci Fátima dos Santos

Aluno:.....

2º ano

Três Pinheiros, 20 de maio de 2020

Hoje é quarta- feira

1) Junte as sílabas e escreva as palavras.

ven to

mun do

pen te

san fo na

ci men to



an jo

tin ta

an zol

gen te

ben ga la

cin co

on ze

va len te

can gu ru

Escreva uma frase para cada palavra formada:

Resolva as operações começando sempre pelas unidades. Veja!



**DU**  
12  
+ 34  
-----  
46

**DU**  
21  
+ 43  
-----  
-----

**DU**  
52  
+ 13  
-----  
-----

**DU**  
30  
+ 26  
-----  
-----

**DU**  
41  
+ 16  
-----  
-----

**DU**  
33  
+ 22  
-----  
-----

**DU**  
14  
+ 61  
-----  
-----

**DU**  
51  
+ 25  
-----  
-----

**DU**  
15  
+ 52  
-----  
-----

ESCREVA O NOME DOS NUMERAIS:

21 \_\_\_\_\_

11 \_\_\_\_\_ 19 \_\_\_\_\_

25 \_\_\_\_\_

18 \_\_\_\_\_

Centro Educacional Municipal Marcelino Ivo Dalla Costa

Diretora: Adriana Tonial Piaia

Professora: Cleuci Fátima dos Santos



Aluno:.....

2º ano

Três Pinheiros, 21 de maio de 2020

Hoje é quinta- feira

Faça os desenhos e escreva o nome de cada um deles:



Nome: \_\_\_\_\_ 1ª \_\_\_\_\_



**Resolva as continhas.  
Faça com atenção!**

$$\begin{array}{r} 29 \\ -13 \\ \hline \end{array}$$

$$\begin{array}{r} 36 \\ +51 \\ \hline \end{array}$$

$$\begin{array}{r} 98 \\ -62 \\ \hline \end{array}$$

$$\begin{array}{r} 15 \\ +32 \\ \hline \end{array}$$

$$\begin{array}{r} 79 \\ -28 \\ \hline \end{array}$$



$$\begin{array}{r} 99 \\ -61 \\ \hline \end{array}$$

$$\begin{array}{r} 84 \\ +13 \\ \hline \end{array}$$

$$\begin{array}{r} 89 \\ -74 \\ \hline \end{array}$$

$$\begin{array}{r} 29 \\ -6 \\ \hline \end{array}$$

$$\begin{array}{r} 81 \\ +4 \\ \hline \end{array}$$



$$\begin{array}{r} 84 \\ -62 \\ \hline \end{array}$$

$$\begin{array}{r} 78 \\ -64 \\ \hline \end{array}$$

$$\begin{array}{r} 80 \\ -20 \\ \hline \end{array}$$

$$\begin{array}{r} 95 \\ -13 \\ \hline \end{array}$$

$$\begin{array}{r} 65 \\ -62 \\ \hline \end{array}$$

$$\begin{array}{r} 15 \\ +31 \\ \hline \end{array}$$

$$\begin{array}{r} 20 \\ +31 \\ \hline \end{array}$$

$$\begin{array}{r} 88 \\ +10 \\ \hline \end{array}$$

$$\begin{array}{r} 13 \\ +34 \\ \hline \end{array}$$

$$\begin{array}{r} 2 \\ \hline \end{array}$$

$$\begin{array}{r} 46 \\ \hline \end{array}$$

$$\begin{array}{r} 1 \\ \hline \end{array}$$



Centro Educacional Municipal Marcelino Ivo Dalla Costa

Diretora: Adriana Tonial Piaia

Professora: Cleuci Fátima dos Santos

Aluno:.....

2º ano

Três Pinheiros, 22 de maio de 2020

Hoje é sexta- feira

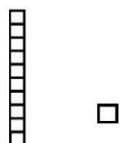
### Avaliação de Matemática

1 Resolvas as operações:

+99	+98	+97	+96	+95
<u>64</u>	<u>53</u>	<u>42</u>	<u>31</u>	<u>22</u>

+12	+13	+14	+15	+16
<u>23</u>	<u>34</u>	<u>45</u>	<u>52</u>	<u>63</u>

2 Represente os números com: UNIDADE E DEZENA



25=

33=

45=

59=

61=

74=

**3 Escreva os números por extenso:**

17=

23=

34=

48=

52=

65=

79=

81=

90=

### Avaliação de Língua Portuguesa

**Escolha um livro e faça um vídeo de uma leitura sua de dois minutos para sua avaliação de Língua Portuguesa... Capriche!!!**