

BOM DIA QUERIDOS ALUNOS 😊

LEMBREM- SE DE CAPRICHAREM NAS ATIVIDADES E FAZER A DATA ANTES DE INICIAR E DE PASSAR UM TRAÇO AO FINALIZÁ-LAS.

SEGUNDA – FEIRA, DIA 18 DE MAIO DE 2020

ESCOLA MUNICIPAL LINDAURA ELEUTÉRIO DA LUZ

DIRETORA: ADRIANA TONIAL PIAIA

PROFESSORA: ANDRIANA TOTTI

ALUNO (A) _____ 1º ANO

AVALIAÇÃO DE PORTUGUÊS

1) COPIE NO CADERNO E COMPLETE O ALFABETO COM AS LETRAS QUE FALTAM.

PINTE SOMENTE AS VOGAIS:

A ___ - ___ - D- ___ - ___ - ___ -H- ___ - ___ - ___ - ___ -N- ___ - ___ - ___ - R- ___ - ___ -
U- ___ - ___ - ___ - ___-Z.

2) ESCREVA SEU PRIMEIRO NOME:

A) QUAL É A PRIMEIRA LETRA DO SEU NOME? _____

B) QUAL É A ÚLTIMA LETRA DO SEU NOME? _____

C) QUANTAS LETRAS TEM SEU NOME? _____

3) NO SEU CADERNO COPIE E COM AJUDA DE UM ADULTO FAÇA A LEITURA DO VERSINHO: NA CASA DA VOVÓ.

4) NO VERSINHO IDENTIFIQUE E CIRCULE TODAS AS VOGAIS COM LÁPIS DE COR DE SUA PREFERÊNCIA:

A CASINHA DA VOVÓ



A CASINHA DA VOVÓ
CERCADINHA DE CIPÓ
O CAFÉ ESTÁ DEMORANDO
COM CERTEZA NÃO TEM PÓ.

3) CIRCULE COM UM LÁPIS AS PALAVRAS QUE COMEÇEM COM A LETRA C:

4) JUNTE AS SÍLABAS E FORME PALAVRAS:

CI+PÓ= CIPÓ

CA+SA=

VO+VÓ=

CA+FÉ=

ES+TÁ=

CER+TE+ZA=

BOM DIA QUERIDOS ALUNOS! 😊

LEMBREM: CAPRICHEM NAS ATIVIDADES, FAZER A DATA ANTES DE INICIAR E PASSAR UM TRAÇO AO FINALIZAR:

TERÇA – FEIRA, DIA 19 DE MAIO DE 2020

ESCOLA MUNICIPAL LINDAURA ELEUTÉRIO DA LUZ

DIRETORA: ADRIANA TONIAL PIAIA

PROFESSORA: ANDRIANA TOTTI

ALUNO (A) _____ 1º ANO

AVALIAÇÃO DE MATEMÁTICA

1) COMPLETE A SEQUÊNCIA DOS NÚMEROS DE 0 a 10.

____ - 1 - ____ - ____ - ____ - 5 - ____ - ____ - ____ - 9 - ____.

2) COPIE NO SEU CADERNO A PLACA QUE APARECE

LETRAS E NÚMEROS NA MESMA.



3) ESCREVA O NOME DO NÚMERO E DESENHE A QUANTIDADE AO LADO:

1- _____

2- _____

3- _____

4- _____

5- _____

6- _____



7- _____



8- _____



9- _____

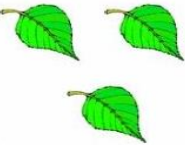
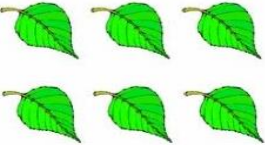
10- _____



4- RESOLVA:



 + 
$2 + 7 = \underline{\quad}$



 + 
$3 + 1 = \underline{\quad}$



 + 
$5 + 2 = \underline{\quad}$

 + 
$3 + 6 = \underline{\quad}$

 + 
$2 + 1 = \underline{\quad}$

 + 
$1 + 8 = \underline{\quad}$

 + 
$3 + 5 = \underline{\quad}$

 + 
$6 + 2 = \underline{\quad}$

BOM DIA QUERIDOS ALUNOS! 😊

LEMBREM- SE DE CAPRICHAREM NAS ATIVIDADES DE FAZER A DATA ANTES DE INICIAR E SEMPRE PASSAR UM TRAÇO AO FINALIZÁ-LAS.

TERÇA – FEIRA, DIA 20 DE MAIO DE 2020

ESCOLA MUNICIPAL LINDAURA ELEUTÉRIO DA LUZ

DIRETORA: ADRIANA TONIAL PIAIA

PROFESSORA: ANDRIANA TOTTI

ALUNO (A) _____ 1º ANO

AVALIAÇÃO DE HISTÓRIA

1) COPIE NO CADERNO E CIRCULE APENAS A PALAVRA QUE SE REFERE A FASE DA VIDA QUE VOCÊ ESTÁ ATUALMENTE.

BEBÊ


CRIANÇA

ADULTO

IDOSO

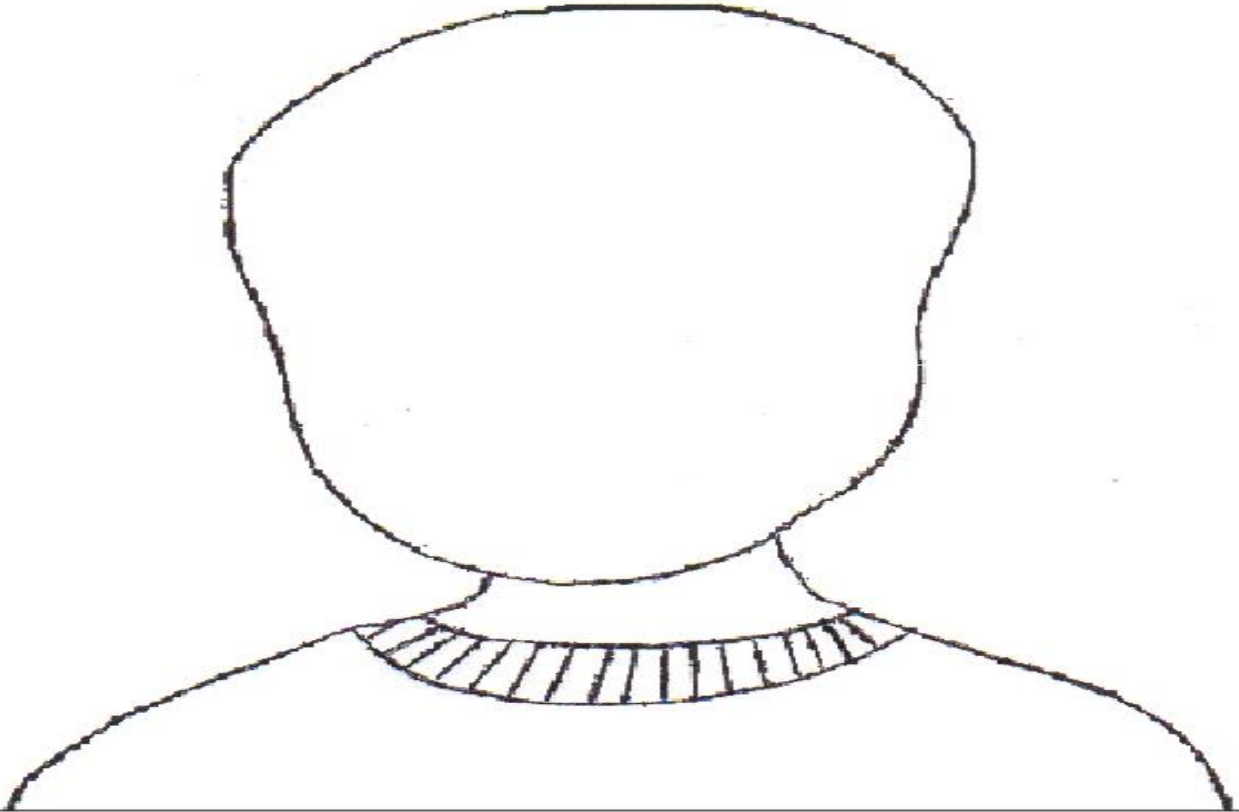
2) DESENHE E ESCREVA QUAL É A SUA BRINCADEIRA PREFERIDA.

MINHA BRINCADEIRA É: _____



3) NO CADERNO FAÇA SEU AUTO-RETRATO E COMPLETE AS FRASES:

AUTO-RETRATO



MEU NOME É _____

EU TENHO ____ ANOS.

EU NASCI NO DIA ____ DE _____ DE _____

EU ESTUDO NA _____

😊 BONS ESTUDOS!

BOM DIA QUERIDOS ALUNOS! 😊

LEMBREM: CAPRICHEM NAS ATIVIDADES, FAZER A DATA ANTES DE INICIAR E PASSAR UM TRAÇO AO FINALIZAR.

QUINTA FEIRA, DIA 21 DE MAIO DE 2020

ESCOLA MUNICIPAL LINDAURA ELEUTÉRIO DA LUZ


DIRETORA: ADRIANA TONIAL PIAIA

PROFESSORA: ANDRIANA TOTTI


ALUNO (A) _____ 1ºANO

AVALIAÇÃO GEOGRAFIA

1) NO CADERNO DESENHE E PINTE SUA MÃO ESQUERDA.



OBSERVE ATENTAMENTE A IMAGEM E DEPOIS RESOLVA A ATIVIDADE ABAIXO:



3) COPIE AS PERGUNTAS E RESPONDA NO CADERNO.

A) QUEM ESTÁ ENTRE O DAVI E A MILENA?

RESPOSTA: _____

B) QUAL A MÃO DO DHONY QUE ESTÁ LEVANTADA, A DIREITA OU A ESQUERDA?

RESPOSTA: _____

C) A MIRELA ESTÁ SENTADA ATRÁS OU NA FRENTE DO MENINO?

RESPOSTA: _____

D) ANA ESTÁ A DIREITA OU A ESQUERDA DE DAVI?

RESPOSTA: _____

BOM DIA QUERIDOS ALUNOS! 😊

LEMBREM: CAPRICHEM NAS ATIVIDADES, FAZER A DATA ANTES DE INICIAR E PASSAR UM TRAÇO AO FINALIZAR.

SEXTA-FEIRA, DIA 22 DE MAIO DE 2020

ESCOLA MUNICIPAL LINDAURA ELEUTÉRIO DA LUZ

DIRETORA: ADRIANA TONIAL PIAIA

PROFESSORA: ANDRIANA TOTTI

ALUNO (A) _____ 1ºANO

AValiação Ciências

1) NO CADERNO FAÇA UM DESENHO DO CORPO, ESCREVA NOS CÍRCULOS O NÚMERO CORRESPONDENTE A CADA PARTE.



OS ORGÃOS DOS SENTIDOS SÃO GRANDES RESPONSÁVEIS PELAS DIFERENTES SENSASSÕES QUE EXPERIMENTAMOS. GRAÇAS A ELES PODEMOS ENCHERGAR, OUVIR, SENTIR O GOSTO E O CHEIRO DAS COISAS, TOCAR E SENTIR OS OBJETOS. ESSAS SENSASSÕES SE DÃO GRAÇAS Á VISÃO, A AUDIÇÃO, AO PALADAR, AO OLFATO E AO TATO.

2) COPIE A ATIVIDADE NO CADERNO E COMPLETE COM A FUNÇÃO DE CADA ORGÃO:

SENTIDOS	ÓRGÃOS
VISÃO	
AUDIÇÃO	
PALADAR	
OLFATO	
TATO	

3) COPIE NO CADERNO, LEIA AS QUESTÕES E MARQUE COM UM X OPÇÃO CORRETA:

A) NOS PERMITE VER OS OBJETOS:

() NARIZ () OLHO () LÍNGUA

B) C ESSE ORGÃO, PODEMOS SENTIR O GOSTO DAS COISAS:

() LÍNGUA () BOCA () OUVIDO

C) NELA SE LOCALIZA O SENTIDO DA AUDIÇÃO:

() PELE () ORELHA () OLHO