

Centro Educacional Municipal Marcelino Ivo Dalla Costa

Diretora: Adriana Tonial Piaia

Professora: Cleuci Fátima dos Santos

Aluno:.....2º ano

Três Pinheiros, 25 de maio de 2020

Hoje é segunda- feira

Ortografia - NH

1. Vamos cantar para treinar o som do **NH**.

A Joaninha
(Música: Eu fui no Itororó)

A casinha da joaninha
tem cortina de algodão.
No jardim, tem um pinheiro,
flores brancas no verão.

A minhoca, uma senhora,
bem ao lado é vizinha.
A cachorra e a gatinha
também são suas amiguinhas!

Ó Joana, joaninha,
Ó Joana, joaninha,
você é tão feliz
na sua casinha!

2. Circule no texto todas as palavras escritas com **NH**
e depois as copie.

3. Complete as palavras com **nha – nhe – nhi – nho – nhu.**

a) mi _____ ca - _____

b) u _____ - _____

c) gali _____ - _____

d) ne _____ ma - _____

e) pu _____ - _____

f) ni _____ da - _____

g) so _____ - _____

h) se _____ ra - _____

i) cu _____ da - _____

j) li _____ - _____

k) cami _____ - _____

l) ju _____ - _____

m) apare _____ - _____

n) reta _____ - _____

Professora: Cleuci Fátima dos Santos

Aluno:.....2º ano

Três Pinheiros, 26 de maio de 2020

Hoje é terça- feira

Ortografia - NH

1. Escreva palavras relacionando números e sílabas:

1	2	3	4	5	6
nho	fa	ga	bo	so	ra
7	8	9	10	11	12
sa	a	pi	li	nha	ri

- a) 3, 10, 11: _____
- b) 4, 10, 11: _____
- c) 8, 6, 11: _____
- d) 7, 9, 1: _____
- e) 5, 9, 11: _____
- f) 3, 10, 1: _____
- g) 7, 10, 11: _____
- h) 2, 12, 11: _____
- i) 10, 11: _____
- j) 10, 1: _____
- l) 5, 1: _____
- m) 4, 10, 1: _____

2. Separe as sílabas das palavras abaixo:

- a) caminhão: _____
- b) minhoca: _____
- c) galinha: _____
- d) apanha: _____
- e) gafanhoto: _____
- f) carinho: _____
- g) amanheceu: _____
- h) pinheiro: _____
- i) ninhada: _____
- j) nenhuma: _____
- l) cunhada: _____
- m) junho: _____
- n) joaninha: _____
- o) aranha: _____
- p) sapinho: _____

Professora: Cleuci Fátima dos Santos

Aluno:.....2º ano

Três Pinheiros, 27 de maio de 2020

Hoje é quarta- feira

Copie as operações e resolva:

ADIÇÃO E SUBTRAÇÃO SEM RESERVA

The image shows six cartoon witches, each holding a cauldron. Each witch has a math problem written on her dress and another on her cauldron. The problems are as follows:

- Witch 1: Dress: $47 + 12$; Cauldron: $75 - 43$
- Witch 2: Dress: $75 + 43$; Cauldron: $47 - 12$
- Witch 3: Dress: $57 + 11$; Cauldron: $48 - 25$
- Witch 4: Dress: $74 + 32$; Cauldron: $57 + 13$
- Witch 5: Dress: $95 + 13$; Cauldron: $68 - 50$
- Witch 6: Dress: $61 + 12$; Cauldron: $65 - 31$

Escolha 5 palavras com **nh** das atividades anteriores e forme frases:




Professora: Cleuci Fátima dos Santos

Aluno.....2º ano

Três Pinheiros, 28 de maio de 2020

Hoje é quinta- feira

Copie o início da história e termine:

<p>- A história já está começada. Vamos terminá-la?</p>		
		
<p><i>Dona Galinha saiu com seus pintinhos para passear. Ela estava procurando uma minhokinha para dar de comer aos pintinhos.</i></p>	<p><i>De repente, ela avistou uma</i></p> <hr/> <hr/> <hr/> <hr/> <hr/> <hr/>	<hr/> <hr/> <hr/> <hr/> <hr/> <hr/>

Copie e resolva os problemas:

1 - ROBERTA COMPROU 86 FIGURINHAS E GANHOU 25 DE SEU PRIMO. COM QUANTAS FIGURINHAS ROBERTA FICOU?

2 -. NA BIBLIOTECA DA ESCOLA HAVIA 19 LIVROS DE AVENTURA. OS ALUNOS RETIRARAM 5. QUANTOS LIVROS FICARAM?

3 -. ANDRÉ TINHA 18 BOLINHAS. DURANTE UM JOGO PERDEU 14. COM QUANTAS BOLINHAS FICOU?

4 - CLÁUDIO COLHEU 37 MANGAS E LIA 15. QUANTAS MANGAS CLÁUDIO E LIA COLHERAM JUNTOS?

18 de Maio

Dia Nacional de Combate ao Abuso e à Exploração Sexual contra Crianças e Adolescentes



ALGUMAS DICAS PARA A PROTEÇÃO DE CRIANÇAS E ADOLESCENTES

facebonito.org.br

FAÇA BONITO

PROTEJA NOSSAS CRIANÇAS E ADOLESCENTES.

Professora: Cleuci Fátima dos Santos

Aluno:.....2º ano




Três Pinheiros, 29 de maio de 2020

Hoje é sexta- feira

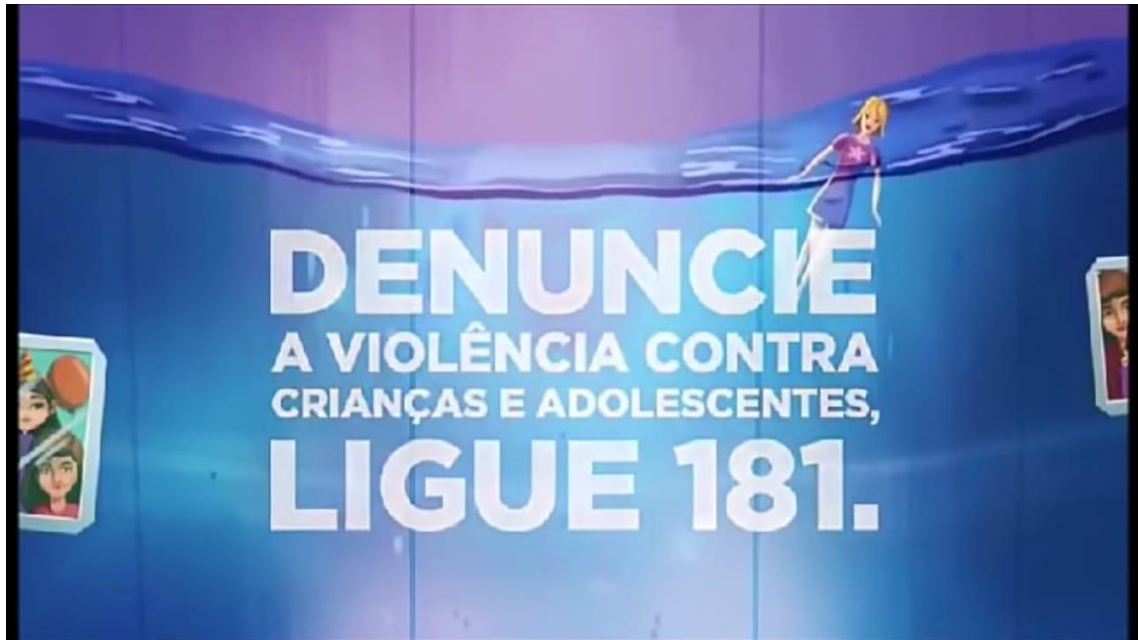
Assista o vídeo que segue o link abaixo, depois faça um desenho sobre o que você entendeu sobre este data:

<https://www.youtube.com/watch?v=fldXbt2RDVM>

Resumo do vídeo: **CAMPANHA NÃO ENGULA O CHORO**







Efetue as atividades abaixo:

No lugar do desenho de cada palhaço crie um nome para cada um deles.

5) Faça o que se pede:

- a) Circule o 3º palhaço.
- b) Risque o 5º palhaço.
- c) Pinte o 1º palhaço.
- d) Numere os palhaços de acordo com a posição de cada.



6) Dê o antecessor e o sucessor:

_____ 30 _____

_____ 40 _____

_____ 50 _____

_____ 10 _____

_____ 60 _____

_____ 90 _____

7) Arme e efetue:

a) $23 + 45 =$

b) $56 + 12 =$

c) $12 + 72 =$

d) $45 - 12 =$

e) $78 - 34 =$

f) $98 - 81 =$