

**ESCOLA NÚCLEO JESUÍNO MENDES**

**DIRETORA: ADRIANA TONIAL PIAIA**

**PROFESSORA: WALESKA PORTO LIMA**

**ÁGUA DOCE, 08 a 19 JUNHO DE 2020**

**1º ano- WALESKA**

**BOM DIA...QUERIDOS ALUNOS**



**ATENÇÃO!**

**COPIE EM SEU CADERNO O NOME DA ESCOLA E A DATA.  
LEMBRETE: CAPRICHAR NA LETRA, E PASSAR TRAÇO DEPOIS DE**

**CADA ATIVIDADE!**



**LEGENDA:**

 **LÁPIS PARA COPIAR OU RESPONDER**

 **LIVRO APENAS PARA LER.**

 **LIVRO E LÁPIS – LER E COPIAR.**

 **IMPORTANTE LER COM ATENÇÃO.**

**ATIVIDADES**

**SEGUNDA-FEIRA**

## ATIVIDADE DE PORTUGUÊS

ATIVIDADES DA APOSTILA PÁGINAS 50, 51, 52 E 53(APOSTILA VELHA)

## ATIVIDADE DE MATEMÁTICA

RESOLVA OS PROBLEMAS.

LUIZA TEM 15 PIRULITOS DEU 5 PARA JOAQUIM, COM QUANTOS PIRULITOS LUIZA FICOU?

OPERAÇÃO :

RESPOSTA: \_\_\_\_\_

VOVÓ PLANTOU 13 MUDAS DE ALFACE E MORRERAM 7 MUDAS. QUANTAS MUDAS SE SALVARAM.

OPERAÇÃO:

RESPOSTA: \_\_\_\_\_

## ATIVIDADE DE CIÊNCIAS

ATIVIDADES DA APOSTILA PÁGINAS 149 A 155(APOSTILA VELHA)

## ATIVIDADE DE MATEMÁTICA

ADICIONE:

$$5 + 6 =$$

$$7 + 3 =$$

$$12 + 4 =$$

$17 + 2 =$

$14 + 7 =$

$15 + 6 =$

$8 + 7 =$

$16 + 6 =$

$14 + 4 =$

$13 + 6 =$

$12 + 9 =$

$11 + 11 =$


## **ATIVIDADE DE PORTUGUÊS**

ATIVIDADES DA APOSTILA PÁGINAS 56 A 60 (APOSTILA VELHA)


DESENHE PARA COMPLETAR A QUANTIDADE DOS NUMERAIS AO LADO,  
DEPOIS COPIE OS NOMES.



**11**  
ONZE



**15**  
QUINZE



**13**  
TREZE

## ATIVIADE DE MATEMÁTICA

ESCREVA OS NÚMEROS DE 1 A 50.

## ATIVIDADE DE PORTUGUÊS

ATIVIDADE DA APOSTILA PÁGINAS 61 A 65 (APOSTILA VELHA)

## ATIVIDADE DE MATEMÁTICA

## ATIVIDADE DE ARTE

APOSTILA DE ARTE PÁGINA 36 A 38.

OSERVAÇÃO: SE NÃO TIVER GIS DE CERA PODE USAR LÁPIS DE COR

## ATIVIDADE DE PORTUGUÊS

COMPLETAR AS LINHAS COM AS SÍLABAS:

ZA \_\_\_\_\_

ZE \_\_\_\_\_

ZI \_\_\_\_\_

ZO \_\_\_\_\_

ZU \_\_\_\_\_

JUNTE AS SÍLABAS E LEIA A PALAVRA QUE FORMA

BU+ZI+NA= \_\_\_\_\_

A+ZUL= \_\_\_\_\_

A+ZU+LA+DO \_\_\_\_\_

CA+FE+ZAL= \_\_\_\_\_

LU+I+ZA= \_\_\_\_\_

FA+ZEN+DA= \_\_\_\_\_

FRA+QUE+ZA= \_\_\_\_\_

ZU+LEI+CA= \_\_\_\_\_

A+MI+ZA+DE= \_\_\_\_\_

ZOM+BAR= \_\_\_\_\_

## ATIVIDADE DE GEOGRAFIA

APOSTILA DE GEOGRAFIA PÁGINA 197 A 200. (APOSTILA NOVA)

## ATIVIDADE DE PORTUGUÊS

ATIVIDADES DA APOSTILA PÁGINA 66 A 71.(APOSTILA VELHA)

## ATIVIDADE DE ENSINO RELIGIOSO

COM SUA FAMÍLIA ESCREVA UMA PEQUENA ORACÃO ESPONTÂNEA  
AGRADECENDO A DEUS PELA VIDA.

## ATIVIDADE DE CIÊNCIAS

APOSTILA DE CIÊNCIAS PÁGINA 131 A 134. (APOSTILA NOVA)

## ATIVIDADE DE MATEMÁTICA

ESCREVA O ANTECESSOR E O SUCESSOR DOS NÚMEROS ABAIXO.

\_\_\_\_\_ 11 \_\_\_\_\_

\_\_\_\_\_ 15 \_\_\_\_\_

\_\_\_\_\_ 19 \_\_\_\_\_

\_\_\_\_\_ 10 \_\_\_\_\_

\_\_\_\_\_ 18 \_\_\_\_\_

\_\_\_\_\_ 16 \_\_\_\_\_

\_\_\_\_\_ 13 \_\_\_\_\_

\_\_\_\_\_ 17 \_\_\_\_\_

## ATIVIDADE DE HISTÓRIA

APOSTILA DE HISTÓRIA PÁGINA 171 A 182. (APOSTILA NOVA)

## ATIVIDADE DE PORTUGUÊS

APOSTILA DE PORTUGUÊS PÁGINA 09 A 11. (APOSTILA NOVA)

LEIA AS PALAVRAS E COPIE-AS NO CADERNO

ZEBRA	AZEITONA
ZELADOR	ZINCO
ZÍPER	ZUMBI
ZERO	AZUL
ZANGADO	ZEZÉ
AMIZADE	DÚZIA
AZULEJO	COZIDO
DEZENA	AZIA
ANZOL	AZEDO


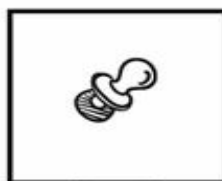
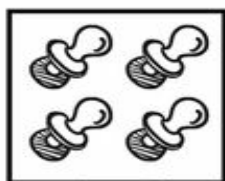
# ATIVIDADE DE MATEMÁTICA



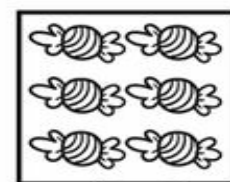
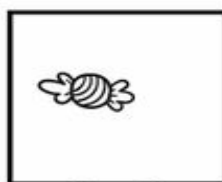
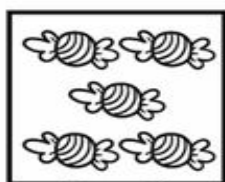
## MATEMÁTICA ADIÇÃO

VAMOS SOMAR?

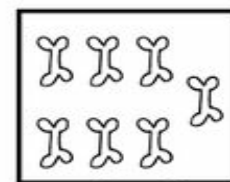
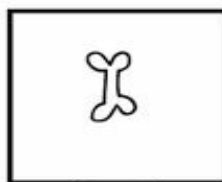
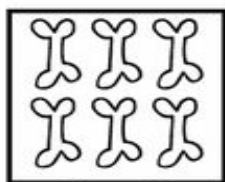
O BEBÊ TINHA 4 CHUPETAS E GANHOU MAIS UMA.  
QUANTAS ELE TEM AGORA?



BRUNOTINHA 5 BALAS E GANHOU MAIS UMA.  
QUANTAS ELE TEM AGORA?



O CACHORRO TINHA 6 OSSOS E GANHOU MAIS UM.  
QUANTOS ELE TEM AGORA?



BOM FIM DE SEMANA





