

ESCOLA NÚCLEO JESUÍNO MENDES
DIRETORA: ADRIANA TONIAL PIAIA
PROFESSORA: WALESKA PORTO LIMA
ÁGUA DOCE, 22 JUNHO a 03 JULHO DE 2020.

4º ano

BOM DIA...QUERIDO ALUNO



ATENÇÃO!

COPIE EM SEU CADERNO O NOME DA ESCOLA E A DATA.
LEMBRETE: CAPRICHAR NA LETRA, E PASSAR TRAÇO DEPOIS

DE CADA ATIVIDADE!



LEGENDA:

 **LÁPIS PARA COPIAR OU RESPONDER**

 **LIVRO APENAS PARA LER.**

 **LIVRO E LÁPIS – LER E COPIAR.**

 **IMPORTANTE LER COM ATENÇÃO.**



ALUNO LEMBRE-SE DE FAZER LEITURA TODOS OS DIAS!



• NESTA SEMANA VAMOS TRABALHAR SOBRE FESTA JUNINA

1- Leia o texto.



A quadrilha foi criada, na Inglaterra, para comemorar as boas colheitas com fartura de comidas e festejos. Chegou ao Brasil trazido pelos portugueses.

O simbolismo da festa é de fertilidade do solo.

Os santos em destaque são: Santo Antônio, 13 de junho, São João, 24 de junho e São Pedro, 29 de junho.

A fogueira é o elemento principal.

Na culinária temos as comidas típicas: a canjica, o pé-de-moleque, a mandioca, a batata assada, o quentão, a pipoca, etc.

Os fogos enfeitam o céu, e a música sertaneja e o forró alegam as pessoas que dançam e se balançam sorridentes a noite toda.

2-Copie o texto e responda as questões:

TIÃO E O SEU BALÃO

Rosimere de Souza Pereira

Tião era um caipira muito desajeitado, que queria fazer de tudo que via do seu jeito desengonçado.


No dia de São João, Tião resolveu homenageá-lo, soltando um balão.

Fez então um enorme balão com cores bem variadas.

À noite, Tião soltou o enorme balão, que foi subindo, subindo, mas, para seu espanto, de repente desceu, desceu, e o fogaréu apareceu.

O balão do Tião virou cinzas no chão.

E Tião aprendeu que não se devem soltar balões, que causam incêndios e destruições.



✍ Conte como você imagina que era o balão de Tião?

✍ O que aconteceu com o balão?

✍ Por que não devemos soltar balões?

ESCOLA NÚCLEO JESUÍNO MENDES
DIRETORA: ADRIANA TONIAL PIAIA
PROFESSORA: WALESKA PORTO LIMA
ÁGUA DOCE, 22 JUNHO a 03 JULHO DE 2020.

4º ano

BOM DIA...QUERIDO ALUNO



ATENÇÃO!

**COPIE EM SEU CADERNO O NOME DA ESCOLA E A DATA.
LEMBRETE: CAPRICHAR NA LETRA, E PASSAR TRAÇO DEPOIS**

DE CADA ATIVIDADE! 😊

LEGENDA:

 **LÁPIS PARA COPIAR OU RESPONDER**

 **LIVRO APENAS PARA LER.**

 **LIVRO E LÁPIS – LER E COPIAR.**

 **IMPORTANTE LER COM ATENÇÃO.**



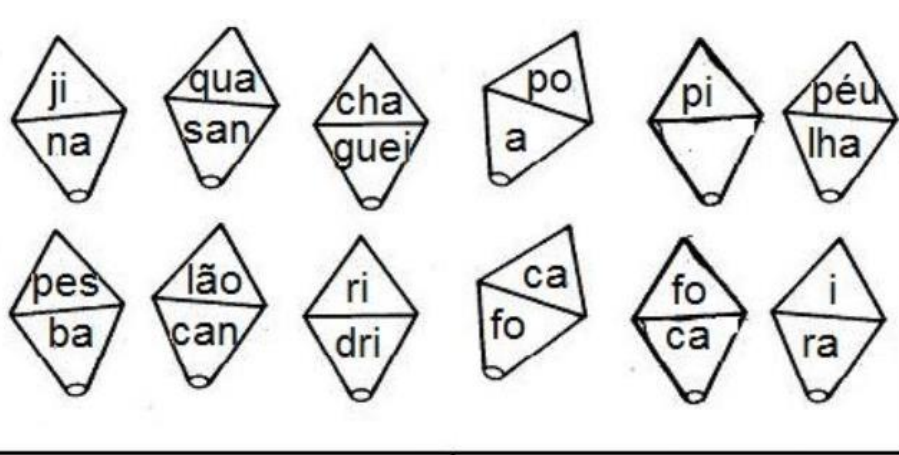
ALUNO LEMBRE-SE DE FAZER LEITURA TODOS OS DIAS! 😊

HISTÓRIA

APOSTILA de HISTÓRIA: Páginas: 242 a 251,
ler e responder: A mineração e o surgimento
de cidades.

Português

1-Com as sílabas forme o máximo de palavras possíveis.



MATEMÁTICA

APOSTILA DE MATEMÁTICA: Páginas 101 a 104, ler e responder.

CIÊNCIAS

APOSTILA DE CIÊNCIAS: Páginas 177 a 182, ler e responder.

ESCOLA NÚCLEO JESUÍNO MENDES

DIRETORA: ADRIANA TONIAL PIAIA

PROFESSORA: WALESKA PORTO LIMA

ÁGUA DOCE, 22 JUNHO a 03 JULHO DE 2020.

4º ano

BOM DIA...QUERIDO ALUNO



ATENÇÃO!

COPIE EM SEU CADERNO O NOME DA ESCOLA E A DATA.

LEMBRETE: CAPRICHAR NA LETRA, E PASSAR TRAÇO DEPOIS

DE CADA ATIVIDADE!



LEGENDA:

 **LÁPIS PARA COPIAR OU RESPONDER**

 **LIVRO APENAS PARA LER.**

 **LIVRO E LÁPIS – LER E COPIAR.**

 **IMPORTANTE LER COM ATENÇÃO.**



ALUNO LEMBRE-SE DE FAZER LEITURA TODOS OS DIAS!



Matemática

1- Copie a tabela e responda as questões:

Preços	
Pescaria.....	R\$2,00
Pipoca.....	R\$1,50
Bolo de Fubá.....	R\$3,00
Refrigerante.....	R\$1,80
Canjica.....	R\$2,30
Pastel.....	R\$1,75

a) Carlos irá comprar dois refrigerantes e um pedaço de bolo de fubá. Depois quer pescar três vezes. Quanto Carlos gastará? _____

b) Carlos pretende levar R\$20,00. Depois da festa com quantos reais ele ficará?

c) Quanto gastará quem comprar fichas de:

-3 fichas de canjica e duas de refrigerante: _____

-2 fichas de pasteis e 3 bolos de fubá: _____

-4 pipocas e 4 refrigerantes: _____

-5 pescarias e 3 pasteis: _____

GEOGRAFIA

APOSTILA DE GEOGRAFIA: Páginas 271 a 276, ler e responder: O trabalho e a transformação das paisagens.

PORTUGUÊS

APOSTILA DE PORTUGUÊS: Páginas 32 a 36, ler e responder: Tem mensagem para você.

ESCOLA NÚCLEO JESUÍNO MENDES
DIRETORA: ADRIANA TONIAL PIAIA
PROFESSORA: WALESKA PORTO LIMA
ÁGUA DOCE, 22 JUNHO a 03 JULHO DE 2020.

4º ano

BOM DIA...QUERIDO ALUNO



ATENÇÃO!

COPIE EM SEU CADERNO O NOME DA ESCOLA E A DATA.
LEMBRETE: CAPRICHAR NA LETRA, E PASSAR TRAÇO DEPOIS

DE CADA ATIVIDADE!



LEGENDA:

 **LÁPIS PARA COPIAR OU RESPONDER**

 **LIVRO APENAS PARA LER.**

 **LIVRO E LÁPIS – LER E COPIAR.**

 **IMPORTANTE LER COM ATENÇÃO.**



ALUNO LEMBRE-SE DE FAZER LEITURA TODOS OS DIAS!



Matemática

1- Copie e responda:

Trabalhando com Horas

RECORDANDO:

Um Dia tem 24 horas 1 hora tem 60 minutos 1 minuto tem 60 segundos

1) complete:

Três dias tem _____ horas	3 horas e meia tem _____ minutos
Uma semana tem _____ horas	2 horas tem _____ minutos
3 minutos tem _____ segundos	5h e 5mim tem _____ minutos

2) Cecília saiu de casa às 7:30 h, 15 minutos depois ela chegou à academia. Fez suas atividades físicas por 1:30 h e retornou para casa em 20 min. A que horas Cecília chegou a casa?

3) O senhor José Carlos é caminhoneiro e todos os dias, (exceto sábados e domingos) ele viaja para São Paulo. A viagem de ida leva aproximadamente 1:30 h. Quantas horas o senhor José Carlos fica na estrada por semana, sabendo que ele gasta o mesmo tempo para voltar?

4) Mamãe saiu de casa para ir ao mercado às 15:15 h. Depois de 1:30 h ela estava de volta. Que horas ela voltou?

5) Atualmente o ano letivo nas escolas públicas é de 5 horas diárias por 200 dias. Quantas horas tem um ano letivo?

6) Supondo que um aluno falte 15 dias. Quantas horas ele terá faltado?

2-Complete. Se janeiro é o mês 1,

A)Outubro é o mês -----

B)Dezembro é o mês -----

C)Agosto é o mês -----

D) Junho é o mês -----

3-Copie e complete o quadro:

Substantivo próprio e comum

Complete o quadro abaixo:

Seu nome	
Sua escola	
Sua professora	
Sua cidade	
Seu Estado	
Seu bairro	
Sua cor preferida	
Um sentimento	
Uma palavra	
Um presente	
Um livro	

APOSTILA: Páginas: 37 a 40, ler e responder: Uma troca de bilhetes.

ESCOLA NÚCLEO JESUÍNO MENDES

DIRETORA: ADRIANA TONIAL PIAIA

PROFESSORA: WALESKA PORTO LIMA

ÁGUA DOCE, 22 JUNHO a 03 JULHO DE 2020.

4º ano

BOM DIA...QUERIDO ALUNO



ATENÇÃO!

COPIE EM SEU CADERNO O NOME DA ESCOLA E A DATA.

LEMBRETE: CAPRICHAR NA LETRA, E PASSAR TRAÇO DEPOIS

DE CADA ATIVIDADE!



LEGENDA:

 **LÁPIS PARA COPIAR OU RESPONDER**

 **LIVRO APENAS PARA LER.**

 **LIVRO E LÁPIS – LER E COPIAR.**

 **IMPORTANTE LER COM ATENÇÃO.**



ALUNO LEMBRE-SE DE FAZER LEITURA TODOS OS DIAS!




ATIVIDADES PORTUGUÊS

1-Copie e complete o texto usando as palavras do quadro:

incêndios quadrilha menina colorido música milho
barracas canjica fumaça pipoca pastel fogueira
balões Zezinho vestido Chiquinha festa junina

A TURMA TODA ESPEROU MUITO POR AQUELA NOITE:
ERA NOITE DE _____.
ESTAVAM ANIMADOS PARA ENFIM, DANÇAR A _____
QUE TANTO ENSAIARAM. OS CASAIS ESTAVAM FORMADOS. A
_____ COM SEU _____ RODADO E SUAS LINDAS
TRANÇAS E O _____ LENÇO NO PESCOÇO.
A _____ LOGO COMEÇOU A TOCAR!
NAS _____ VENDIAM COISAS MUITO GOSTOSAS, COMO:
_____, _____, _____ E _____.
A _____ ESTAVA ACESA E A _____ SUBIA NO CÉU.
A _____ E O _____ ESTAVAM PRONTOS PARA O
CASAMENTO QUE IA COMEÇAR LOGO
DE UMA COISA TODOS SABIAM: NAQUELA FESTA NINGUÉM IA SOLTAR
_____ PORQUE ELE PODE CAUSAR _____!



MATEMÁTICA

1- Resolva os problemas:

- a) A mãe de Carlos saiu de casa as 8 horas da manhã para trabalhar e voltou as 17 horas. Quantas horas ela ficou fora de casa?

Resposta: _____

b) São 9 horas da manhã, eu almoço as 12 horas. Quantas horas faltam para o almoço?

Resposta: _____

c) Se o ponteiro pequeno de um relógio andou 5 horas, quantos minutos andou o ponteiro pequeno?

Resposta: _____

d) Se Lucas nasceu em 1970. Hoje estamos em 2020, quantas décadas ele já viveu?

Resposta: _____

ARTE

**1- FAÇA UM DESENHO BEM CRIATIVO
SOBRE FESTA JUNINA**

ENSINO RELIGIOSO

1. Marque os quadradinhos que mostram como devemos viver em família

OS PAIS DEVEM CUIDAR BEM DOS FILHOS.

OS IRMÃOS PODEM BRIGAR MUITO.

A FAMÍLIA DEVE VIVER COM AMOR.

OS FILHOS DEVEM OBDECER AOS PAIS E RESPEITÁ-LOS



2. ECA: Estatuto da Criança e do Adolescente, é ele que garante os direitos das crianças e adolescentes, marque com um X, os direitos das crianças.:

Direito à proteção;

Direito à escola;

Direito à festa;

Direito à alimentação;

Direito à lazer;



Direito à moradia;

Direito à trabalhar;

Direito de ter um nome;

Direito de ter um celular;

Direito à socorro no hospital;

