

Atividades para semanas do dia 22 de junho até 03 de julho

Atividades de Língua portuguesa

Copie o texto, faça a leitura e responda as questões abaixo:



São João

Noite de São João

Que noite linda!
Que animação!
Hoje é noite, de São João.

Hoje tem festa,
Que animação!
Pula fogueira bate o pé, bate a mão
Pois tem pipoca, canjica e feijão.

Hoje tem festa,
Que animação!
Tem quadrilha e forrozão.

Viva São Pedro! Viva São João!
Só não pode, soltar balão.

Cantando e interpretando!

1. Responda: (0,7)

a) Qual é o título da música? _____

b) Quais os nomes das pessoas que aparecem na música? _____

c) Quais as comidas típicas aparecem na música? _____

d) O que não pode soltar em noite de São João? _____

Coloque as palavras no local correto, faça a leitura e escolha 3 palavras em cada coluna para fazer frases.



CH	NH	LH

MURCHA	PUNHA	CANHÃO	FILHO
TACHO	BICHÃO	GANHO	GALHÃO
ACHAR	BOCHA	GANHEI	GALHO
GANHA	FININHA	ALHO	FILHINHA
BOLINHO	ARANHA	FICHINHA	ORELHA
CHEIO	GANCHO	MILHEIRO	BOLHA
BULHA	GANHARIA	MALHARIA	ACHARIA

Na apostila, página 14 exercício 09 complete com palavras de acordo com o número de sílabas.

Leia e resolva as atividades sobre **Espaço entre as palavras**, nas páginas 15 até 17.

Atividades de Matemática

Na apostila resolva os exercícios das páginas 96 e 97.

No caderno, copie e resolva;



ARME E RESOLVA

$83 + 5 =$

D	U

$94 + 8 =$

D	U

$31 + 5 =$

D	U

$58 + 2 =$

D	U

$11 + 2 =$

D	U

$93 + 9 =$

D	U

$24 + 33 =$

D	U

$58 + 12 =$

D	U

$18 + 26 =$

D	U

$19 + 11 =$

D	U

$30 + 38 =$

D	U

$34 + 31 =$

D	U



OBSERVE ATENTAMENTE A TABELA DE PREÇOS DA FESTA JUNINA E RESOLVA OS PROBLEMAS ABAIXO:

TABELA DE PREÇOS	
CHURRASCO.....	3 REAIS
REFRIGERANTE.....	2 REAIS
ÁGUA	1 REAL
PIPOCA	2 REAIS
BOLO DE FUBÁ.....	3 REAIS
DOCES TÍPICOS.....	2 REAIS
MILHO	2 REAIS
BRINCADEIRAS.....	2 REAIS
CARTELA DE BINGO.....	1 REAL



1. ROSINHA QUER COMPRAR 2 REFRIGERANTES, 1 CHURRASCO E 1 PEDAÇO DO DELICIOSO BOLO DE FUBÁ. QUANTO ELA DEVERÁ PAGAR?

RESPOSTA: _____



2. CHICO QUER COMPRAR 2 CHURRASCOS, 1 ÁGUA, 3 FICHAS DE BRINCADEIRAS E 1 DOCE TÍPICO. PARA PAGAR, ELE USARÁ UMA NOTA DE 20 REAIS. DE QUANTO SERÁ SEU TROCO?

RESPOSTA: _____



3. ZÉ LELÉ TEM 10 REAIS PARA GASTAR NA FESTA. ELE QUER GASTAR TUDO, COMENDO E SE DIVERTINDO. ESCREVA TRÊS SUGESTÕES DE FORMAS COM AS QUAIS ELE PODERÁ GASTAR SEUS 10 REAIS NA FESTA:



- A. _____
B. _____
C. _____

Atividades de ciências

Faça a leitura e observe os desenhos das páginas 164,165 e 166, depois faça os exercícios das páginas 167 até 170.

No caderno faça uma lista de alimentos que temos na festa junina doces e salgados.



Atividades de história

Leia as páginas 232 até 236 sobre CERTIDÃO DE NASCIMENTO, CARTEIRA DE VACINAÇÃO, REGISTRO GERAL(RG) e CARTEIRA NACIONAL DE HABILITAÇÃO (CNH).

Resolva os exercícios das páginas 237 até 240.

Referente a leitura.

Atividades de geografia

Leia as páginas 248 e 249 refere AS CASAS PODEM SER DIFERENTES.

Faça as atividades das páginas 250 e 251 da apostila referente ao texto lido.

Copie sobre os tipos de casa e desenhe-as (caderno).


TIPOS DE CASAS

Existem vários tipos de casas ao redor do mundo. Cada povo constrói sua residência de acordo com suas necessidades e de acordo com o ambiente em que vive. Vamos conhecer algumas delas?




OCAS

São construções grandes, sem divisões internas nem janelas; feitas de palha e taquara, que servem de moradia para os índios.




IGLUS

Pequenas casas feitas de blocos de gelo, localizadas e regiões geladas onde moram os esquimós.



PALAFITAS

Casas apoiadas em estacas altas fincadas no fundo do rio para se proteger dos alagamentos.



APARTAMENTOS

São casas todas iguais, construídas umas em cima das outras formando prédios enormes. As casas são separadas por corredores.



BARRACOS

São pequenas casas construídas em favelas, sem permissão e em lugares perigosos, em morros ao redor de grandes cidades; feitas de papelão e sucata.



Atividades de Arte

Copie o poema no caderno de Arte, depois faça o desenho de sua casa usando colagem, com o material que você possuir em casa.

O melhor lugar do mundo

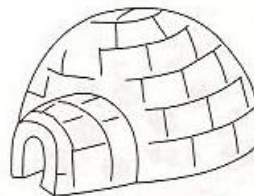
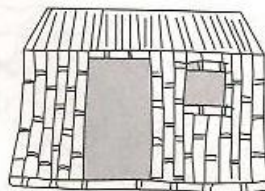
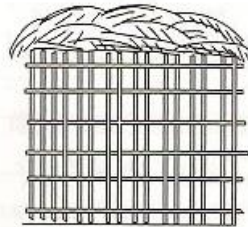
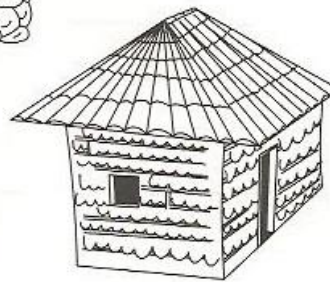
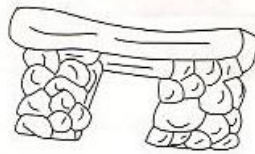
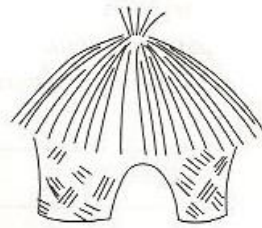
Noele Belger

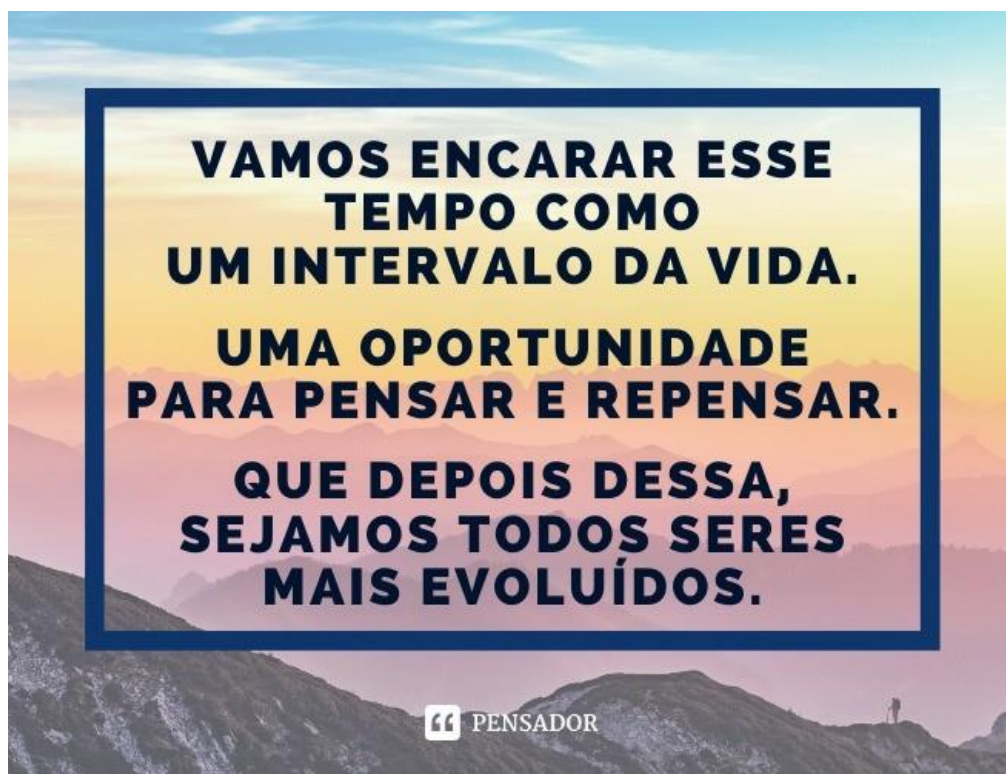
Nem toda gente do mundo
Tem casa para morar
Igual a casa da gente

Existe casa de palha
Que tem o nome de oca
De pedra e de bambu
Existe casa de gelo
Que tem o nome d iglu

Existe casa de pano
De tijolo ou de madeira
Existe casa de barro
E até de esteira

É bom conhecer
Tanta casa diferente
Mas o melhor lugar do mundo
É mesmo a casa da gente!!





Hoje sua casa é sua escola. Cuide bem dela. Ajuda seus pais em tudo que lhe pedirem, e tudo que eles mais querem é ver você feliz. Existe demonstração de amor melhor que essa? Ilustre um momento feliz seu com sua família.

