

Três Pinheiros, 22 de junho a 03 de julho de 2020

## SEGUNDA- FEIRA

- **NESTA SEMANA VAMOS TRABALHAR SOBRE FESTA JUNINA**

### 1- Leia o texto.



A quadrilha foi criada, na Inglaterra, para comemorar as boas colheitas com fartura de comidas e festejos. Chegou ao Brasil trazido pelos portugueses.

O simbolismo da festa é de fertilidade do solo.

Os santos em destaque são: Santo Antônio, 13 de junho, São João, 24 de junho e São Pedro, 29 de junho.

A fogueira é o elemento principal.

Na culinária temos as comidas típicas: a canjica, o pé-de-moleque, a mandioca, a batata assada, o quentão, a pipoca, etc.

Os fogos enfeitam o céu, e a música sertaneja e o forró alegam as pessoas que dançam e se balançam sorridentes a noite toda.

### 2- Copie o texto e responda as questões:

**TIÃO E O SEU BALÃO**

Rosimere de Souza Pereira

Tião era um caipira muito desajeitado, que queria fazer de tudo que via do seu jeito desengonçado.


No dia de São João, Tião resolveu homenageá-lo, soltando um balão.

Fez então um enorme balão com cores bem variadas.

À noite, Tião soltou o enorme balão, que foi subindo, subindo, mas, para seu espanto, de repente desceu, desceu, e o fogaréu apareceu.

O balão do Tião virou cinzas no chão.

E Tião aprendeu que não se devem soltar balões, que causam incêndios e destruições.



✍ Conte como você imagina que era o balão de Tião?

\_\_\_\_\_

✍ O que aconteceu com o balão?

\_\_\_\_\_

✍ Por que não devemos soltar balões?

\_\_\_\_\_

**3- Resolva os problemas:**

- a) A escola Pantoja pretende arrecadar R\$ 1.500,00 em votinho da Rainha da Pipoca e do Rei do Amendoim. Com essa quantia poderá comprar os ingredientes para fazer as comidas e bebidas para o Arráia da escola. A diretora da escola gastará R\$ 578,00 no supermercado, R\$ 495,50 no açougue e R\$ 287,00 em refrigerantes. Quanto gastará? Quanto receberá de troco se levar a quantia de R\$ 1.500,00?
- OPERAÇÃO

RESPOSTA: \_\_\_\_\_

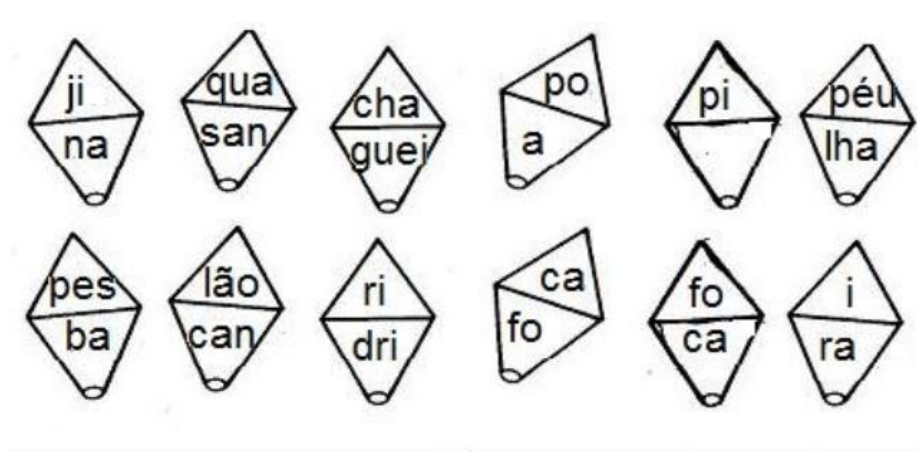
**4- Para a Festa Junina, serão feitos os seguintes salgados:**

|                    |      |
|--------------------|------|
| Coxinhas           | 2950 |
| Pastéis            | 1896 |
| Empadas            | 1376 |
| Espetinhos         | 1345 |
| Bolinhos de queijo | 1240 |

- a) Qual sagado terá maior quantidade?
- b) Quantas coxinhas serão feitas a mais que as empadas?
- c) Quantos salgados serão feitos ao todo?

**HISTÓRIA**

1- Com as sílabas forme o máximo de palavras possíveis.



- **MATEMÁTICA**

**APOSTILA:** Páginas: 101 a 104, ler e responder.

- **CIÊNCIAS**

**APOSTILA:** Pág 177 a 182, ler e responder.

1- Copie a tabela e responda as questões:

| <b>Preços</b>     |         |
|-------------------|---------|
| Pescaria.....     | R\$2,00 |
| Pipoca.....       | R\$1,50 |
| Bolo de Fubá..... | R\$3,00 |
| Refrigerante..... | R\$1,80 |
| Canjica.....      | R\$2,30 |
| Pastel.....       | R\$1,75 |

a) Carlos irá comprar dois refrigerantes e um pedaço de bolo de fubá. Depois quer pescar três vezes. Quanto Carlos gastará? \_\_\_\_\_

b) Carlos pretende levar R\$20,00. Depois da festa com quantos reais ele ficará?  
\_\_\_\_\_

c) Quanto gastará quem comprar fichas de:

-3 fichas de canjica e duas de refrigerante: \_\_\_\_\_

-2 fichas de pasteis e 3 bolos de fubá: \_\_\_\_\_

-4 pipocas e 4 refrigerantes: \_\_\_\_\_

-5 pescarias e 3 pasteis: \_\_\_\_\_

- **GEOGRAFIA**

**APOSTILA:** Páginas 271 a 276, ler e responder: O trabalho e a transformação das paisagens.

- **PORTUGUÊS**

**APOSTILA:** Páginas 32 a 36, ler e responder: Tem mensagem para você.

1- Copie e responda:

### *Trabalhando com Horas*

RECORDANDO:

Um Dia tem 24 horas      1 hora tem 60 minutos      1 minuto tem 60 segundos

1) complete:

|                              |                                  |
|------------------------------|----------------------------------|
| Três dias tem _____ horas    | 3 horas e meia tem _____ minutos |
| Uma semana tem _____ horas   | 2 horas tem _____ minutos        |
| 3 minutos tem _____ segundos | 5h e 5min tem _____ minutos      |

2) Cecília saiu de casa às 7:30 h, 15 minutos depois ela chegou à academia. Fez suas atividades físicas por 1:30 h e retornou para casa em 20 min. A que horas Cecília chegou a casa?

3) O senhor José Carlos é caminhoneiro e todos os dias, (exceto sábados e domingos) ele viaja para São Paulo. A viagem de ida leva aproximadamente 1:30 h. Quantas horas o senhor José Carlos fica na estrada por semana, sabendo que ele gasta o mesmo tempo para voltar?

4) Mamãe saiu de casa para ir ao mercado às 15:15 h. Depois de 1:30 h ela estava de volta. Que horas ela voltou?

5) Atualmente o ano letivo nas escolas públicas é de 5 horas diárias por 200 dias. Quantas horas tem um ano letivo?

6) Supondo que um aluno falte 15 dias. Quantas horas ele terá faltado?

2-

3- **Complete. Se janeiro é o mês 1,**

- a) Outubro é o mês -----
- b) Dezembro é o mês -----
- c) Agosto é o mês -----
- d) Junho é o mês -----

4- **Copie e complete o quadro:**

# Substantivo próprio e comum

Complete o quadro abaixo:

|                   |  |
|-------------------|--|
| Seu nome          |  |
| Sua escola        |  |
| Sua professora    |  |
| Sua cidade        |  |
| Seu Estado        |  |
| Seu bairro        |  |
| Sua cor preferida |  |
| Um sentimento     |  |
| Uma palavra       |  |
| Um presente       |  |
| Um livro          |  |

**APOSTILA:** Páginas 37 a 40, ler e responder: Uma troca de bilhetes.


---

1- Copie e complete o texto usando as palavras do quadro:



incêndios quadrilha menina colorido música milho  
barracas canjica fumaça pipoca pastel fogueira  
balões Zezinho vestido Chiquinha festa junina

A TURMA TODA ESPEROU MUITO POR AQUELA NOITE:  
ERA NOITE DE \_\_\_\_\_  
ESTAVAM ANIMADOS PARA ENFIM, DANÇAR A \_\_\_\_\_  
QUE TANTO ENSAIARAM. OS CASAIS ESTAVAM FORMADOS. A  
\_\_\_\_\_ COM SEU \_\_\_\_\_ RODADO E SUAS LINDAS  
TRANÇAS E O \_\_\_\_\_ LENÇO NO PESCOÇO.  
A \_\_\_\_\_ LOGO COMEÇOU A TOCAR!  
NAS \_\_\_\_\_ VENDIAM COISAS MUITO GOSTOSAS, COMO:  
\_\_\_\_\_, \_\_\_\_\_ E \_\_\_\_\_.  
A \_\_\_\_\_ ESTAVA ACESA E A \_\_\_\_\_ SUBIA NO CÉU.  
A \_\_\_\_\_ E O \_\_\_\_\_ ESTAVAM PRONTOS PARA O  
CASAMENTO QUE IA COMEÇAR LOGO  
DE UMA COISA TODOS SABIAM: NAQUELA FESTA NINGUÉM IA SOLTAR  
\_\_\_\_\_ PORQUE ELE PODE CAUSAR \_\_\_\_\_!



**2- Resolva os problemas:**

a) A mãe de Carlos saiu de casa as 8 horas da manhã para trabalhar e voltou as 17 horas. Quantas horas ela ficou fora de casa?

R: \_\_\_\_\_

b) São 9 horas da manhã, eu almoço as 12 horas. Quantas horas falta para o almoço?

R: \_\_\_\_\_

c) Se o ponteiro pequeno de um relógio andou 5 horas, quantos minutos andou o ponteiro pequeno?

R: \_\_\_\_\_

d) Se Lucas nasceu em 1970. Hoje estamos em 2020, quantas décadas ele já viveu?

R: \_\_\_\_\_

**ARTE**

1- FAÇA UM DESENHO BEM CRIATIVO SOBRE FESTA JUNINA

**ENSINO RELIGIOSO**

1. Marque os quadradinhos que mostram como devemos viver em família

OS PAIS DEVEM CUIDAR BEM DOS FILHOS.

OS IRMÃOS PODEM BRIGAR MUITO.

A FAMÍLIA DEVE VIVER COM AMOR.

OS FILHOS DEVEM OBDECER AOS PAIS E RESPEITÁ-LOS



2. **ECA:** Estatuto da Criança e do Adolescente, é ele que garante os direitos das crianças e adolescentes, marque com um X, os direitos das crianças.:

Direito à proteção;

Direito à escola;

Direito à festa;

Direito à alimentação;

Direito à lazer;

Direito à moradia;

Direito à trabalhar;

Direito de ter um nome;

Direito de ter um celular;

Direito à socorro no hospital;

