


Atividades para semanas do dia 06 de julho até 17 de julho

Atividades de Língua portuguesa

Copie o texto, faça a leitura, (mande o vídeo desta leitura para professora), o exercício e frases:

Ortografia: P e B

O beija-flor e o papagaio




O beija-flor bate as asas, flutua no ar, beijando as flores. O papagaio, no alto da árvore, fica olhando o seu bailado.

O beija-flor voa e, às vezes, pára no ar. Suga o néctar de uma flor, e continua, com suas asas coloridas, a voar nos canteiros floridos.

O beija-flor vai se distanciando e o papagaio vai acompanhando o seu vôo.

Passam dias e os dois se tornam amigos e felizes. Voam, brincam, pousam aqui e ali, sempre na companhia um do outro, apesar das suas diferenças.

Clélia Márcia

Faça você 

- ♦ Pinte de azul no texto as palavras que começam com **B**, de vermelho as palavras que começam com **P** e escreva-as abaixo:

B

P

Escolha 2 palavras com b e 2 com p para fazer frases.



ATIVIDADES DE PORTUGUÊS

1) COMPLETE AS PALAVRAS COM "P" E "B".

 TA□ETE	 RA□O	 RE□OLHO
 CE□OLA	 A□ITO	 RA□ISCO
 CA□ELO	 □ENTE	 □INGO
 □INGO	 □ICHO	 □OLSO
 □AREDE	 URU□U	 ES□ADA
 A□AJOUR	 SA□ONETE	 □ANDA

2) COMPLETE AS PALAVRAS QUE ESTÃO FALTANDO NOS TRECHOS DAS MÚSICAS:

_____ QUANDO NASCE,
SE EPARRAMA PELO CHÃO;
MENINHA, QUANDO DORME,
PÕE A MÃO NO CORAÇÃO

EU SOU _____,
DO TAMANHO DE UM _____,
LEVO O PAPAI NO _____,
E A MAMÃE NO CORAÇÃO.

SE ESSA RUA FOSSE MINHA,
EU MANDAVA LADRILHAR
COM _____ DE BRILHANTE
PARA O MEU AMOR _____.

LÁ VEM O _____
AQUI, _____ ACOLÁ
LÁ VEM O _____
PARA VER O QUE É QUE HÁ.

Na apostila, página 18 faça a leitura das quadrinhas.

Leia as quadrinhas 1 e 2, e as quadrinhas A e B da semana anterior e resolva os exercícios nas páginas 19 até 22.

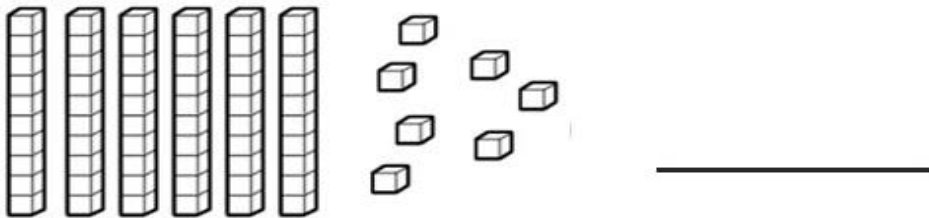
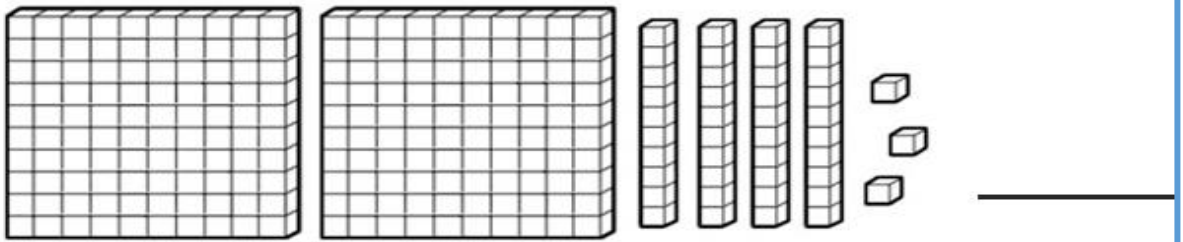
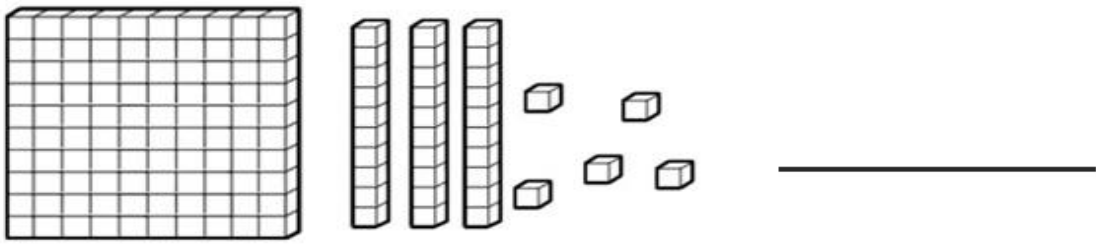
Atividades de Matemática

Na apostila leia as páginas 100 e 101 depois realize os exercícios das páginas 102 e 106 sobre Contagem e Estimativa.



No caderno, copie e resolva;

1. Observe e registre a quantidade



2. Desenhe as quantidades representadas.

134

56





vamos calcular?

1)
$$\begin{array}{r} 85 \\ - 22 \\ \hline \end{array}$$

2)
$$\begin{array}{r} 74 \\ - 20 \\ \hline \end{array}$$

3)
$$\begin{array}{r} 93 \\ - 62 \\ \hline \end{array}$$

4)
$$\begin{array}{r} 78 \\ - 14 \\ \hline \end{array}$$

5)
$$\begin{array}{r} 86 \\ - 40 \\ \hline \end{array}$$

6)
$$\begin{array}{r} 70 \\ - 20 \\ \hline \end{array}$$

7)
$$\begin{array}{r} 88 \\ - 52 \\ \hline \end{array}$$

8)
$$\begin{array}{r} 65 \\ - 41 \\ \hline \end{array}$$

9)
$$\begin{array}{r} 76 \\ - 33 \\ \hline \end{array}$$

10)
$$\begin{array}{r} 59 \\ - 21 \\ \hline \end{array}$$

11)
$$\begin{array}{r} 78 \\ - 50 \\ \hline \end{array}$$

12)
$$\begin{array}{r} 37 \\ - 26 \\ \hline \end{array}$$

13)
$$\begin{array}{r} 57 \\ - 11 \\ \hline \end{array}$$

14)
$$\begin{array}{r} 98 \\ - 86 \\ \hline \end{array}$$

15)
$$\begin{array}{r} 83 \\ - 32 \\ \hline \end{array}$$

16)
$$\begin{array}{r} 49 \\ - 18 \\ \hline \end{array}$$

17)
$$\begin{array}{r} 70 \\ - 50 \\ \hline \end{array}$$

18)
$$\begin{array}{r} 79 \\ - 47 \\ \hline \end{array}$$

19)
$$\begin{array}{r} 87 \\ - 73 \\ \hline \end{array}$$

20)
$$\begin{array}{r} 59 \\ - 15 \\ \hline \end{array}$$



Leia, resolva e marque a resposta certa:

Paulo, José e Joana foram ao shopping. Observe os preços dos brinquedos de que mais gostaram.



A) Paulo tem 52 reais. Pode comprar dois desses brinquedos. Quais são os dois brinquedos que ele pode comprar?

- O carrinho e a bola.
- A boneca e a bola.
- O carrinho e a boneca.

B) Joana tem uma nota de 50 reais, uma de 20 reais e uma de 10 reais. Quanto Joana tem?

- 70 reais.
- 60 reais.
- 80 reais.

C) Joana quer comprar 2 bonecas com o dinheiro que tem. Quanto receberá de troco se comprar as bonecas?

- 10 reais.
- Não terá troco a receber.
- 20 reais.

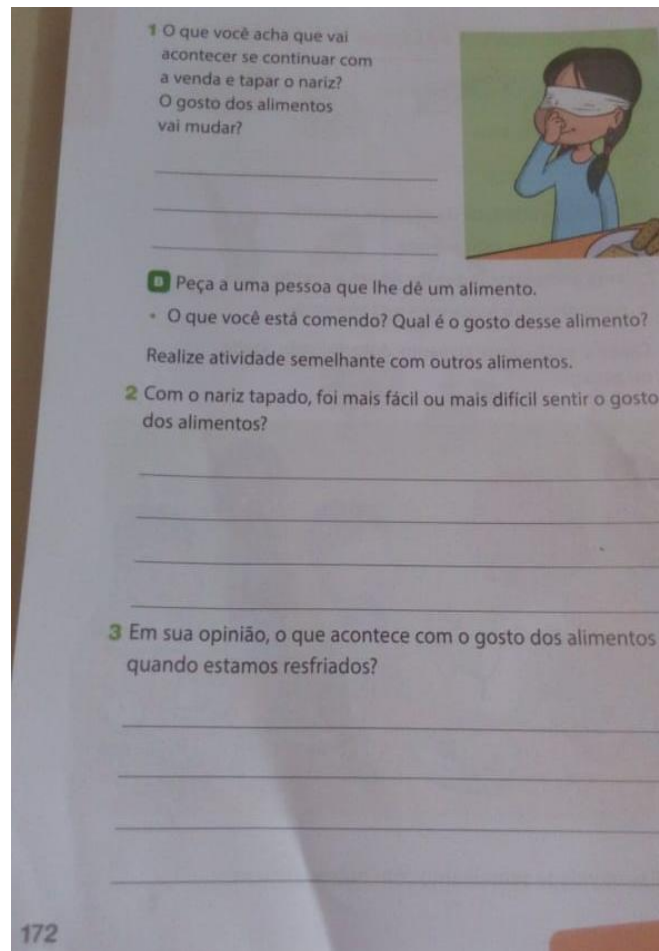
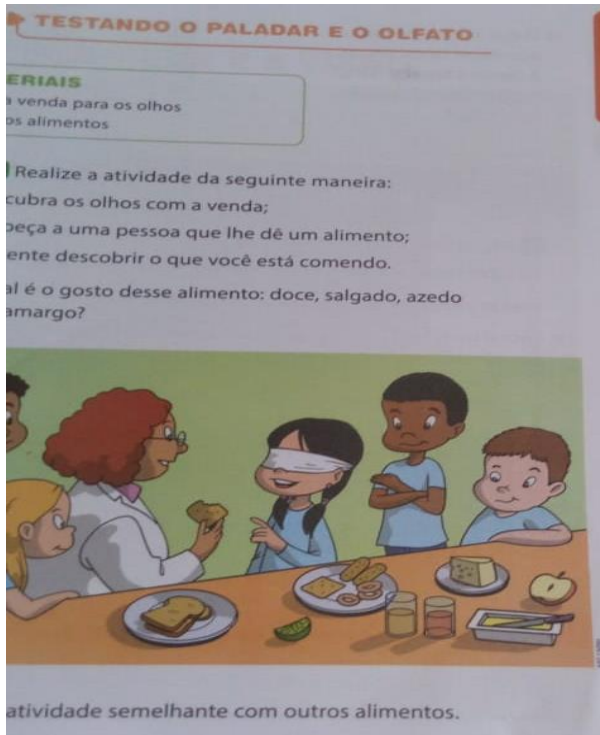
D) José tinha 10 reais. Ele queria comprar uma bola para dar de presente a sua irmã. Quanto falta para poder comprar a bola?

- 1 real.
- 2 reais.
- 3 reais.



Atividades de ciências

Faça a brincadeira: Testando o olfato e paladar: (se possível) senão, analise o desenho do livro e faça a atividade que pede nas páginas 171 e 172.



Atividades de história

Mês de julho é o mês de aniversário de nosso município: **ÁGUA DOCE**





Você lembra da história do nosso município? Conte com suas palavras.

Atividades de geografia

Leia as páginas 252 e 253 refere **MORADIAS DIFERENTES PELO MUNDO.**

Leia sobre os diferente materiais na construção das casas nas páginas 254 e 255.

Faça as atividades das páginas 256, 257 e 258 da apostila referente ao texto lido.

Atividades de Arte

Faça a bandeira de **Água Doce** em seu caderno. Use o material que tiver.



Atividades de Educação Religiosa

