

Atividades semana do dia 08 de setembro a 21 de setembro

CENTRO EDUCACIONAL MUNICIPAL FREI SILVANO

DIRETORA: LUCI MARA LUCHESE

PROFESSORA: MAÍRA RAMOS

ALUNO

(A): _____

SÉRIE: 5º ano

ATIVIDADE DE PORTUGUÊS

Apostila página 40. Sujeito e Predicado.

Sujeito: é o termo da oração (frase) que indica o ser ou o seu objeto do qual se fala.

Predicado: é o termo da oração (frase) que contém informações sobre o sujeito, por meio do verbo.

Assista o vídeo para melhor entender:

<https://www.youtube.com/watch?v=SOyl3zAabvQ>

1- Agora, responda as atividades das páginas 41, 42, 43 e 44.

2- Copie e responda em seu caderno a atividade a seguir:

Sublinhe o sujeito e circule o predicado das frases.

- a) Papai leu todo o jornal.
- b) Nós almoçamos tarde hoje.
- c) O doce estava delicioso
- d) Minha boneca é nova.
- e) A bola é toda colorida.
- f) A onça vive na selva.



Escolha o sujeito e complete as frases. Siga o modelo.

- a) Camilla pulou corda.
- b) _____ foi à feira.
- c) _____ dormiu muito.
- d) _____ joga bola.

ATIVIDADE DE MATEMÁTICA

Segue abaixo mais um vídeo sobre como calcular área e perímetro.


<https://www.youtube.com/watch?v=IN2cpwwjm44>

Reforçando: para calcular o perímetro você deve somar todos os lados da figura.

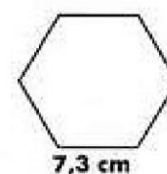

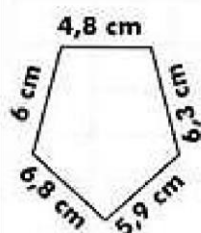
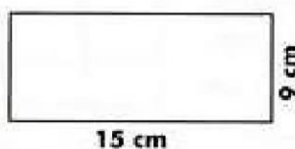
Agora, em seu caderno realize as seguintes atividades:

PERÍMETRO

Perímetro é a soma das medidas dos lados de um polígono.



Calcule o perímetro das figuras abaixo:

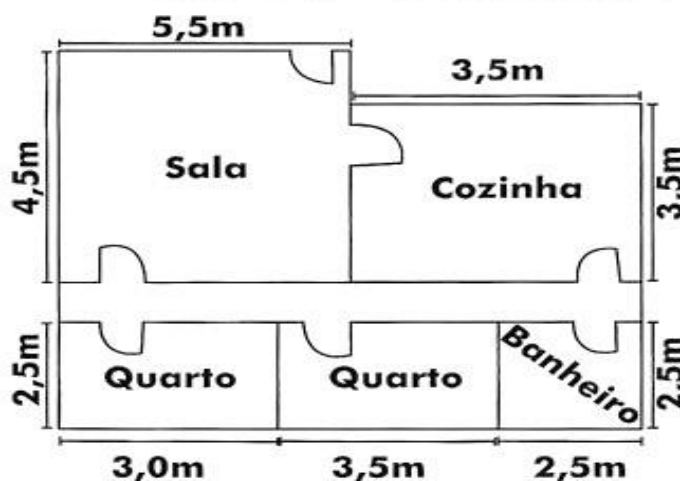


AGORA, VAMOS CALCULAR A ÁREA.

Lembrando que para calcular a área você deve multiplicar:

Exemplo: Sala $4,5 \times 5,5 = \underline{\quad}$ m

Observe as medidas e calcule o que se pede:



a) Área da Sala.

- b) Área da Cozinha.
- c) Área de cada quarto.
- d) Área do banheiro.

ATIVIDADE DE GEOGRAFIA

- 1- Leia com atenção na apostila as páginas 261 e 262. Agora, realize as atividade nas páginas 262 e 263.

- 2- Leia também a página 264. Depois realize as atividades nas páginas 265 e 266.

ATIVIDADE DE HISTÓRIA

Com base no estudo do capítulo 6 sobre “O TRABALHO ESCRAVO NO BRASIL”, realize a atividade da página 233.

Como dia 7 de setembro comemoramos a INDEPENDÊNCIA DO BRASIL copie em seu caderno o poema:

BRASIL

Como é bela nossa Pátria
Tem riquezas e belezas mil Nas suas terras e suas matas Minha
gente, é o Brasil!

O verde da nossa Bandeira
Nossas matas representa Com
seus rios, lagoas e cachoeiras
Essa é a Pátria Brasileira.




O amarelo da nossa Bandeira
São nossas riquezas minerais,
As pedras preciosas e o ouro
São o nosso maior tesouro.

O azul da nossa Bandeira
Esse azul da cor do anil
Representa o céu maravilhoso
Do nosso querido Brasil.

O branco da nossa Bandeira
Representa sem igual
Paz a todos os brasileiros E ao
mundo em geral.

Salve a Bandeira...
Do nosso querido Brasil.
Símbolo que representa A
independência do Brasil.



ATIVIDADE DE CIÊNCIAS

**Leia e observe com muita
atenção as páginas 180 e 181
da apostila.**

Assista o vídeo para melhor entender:

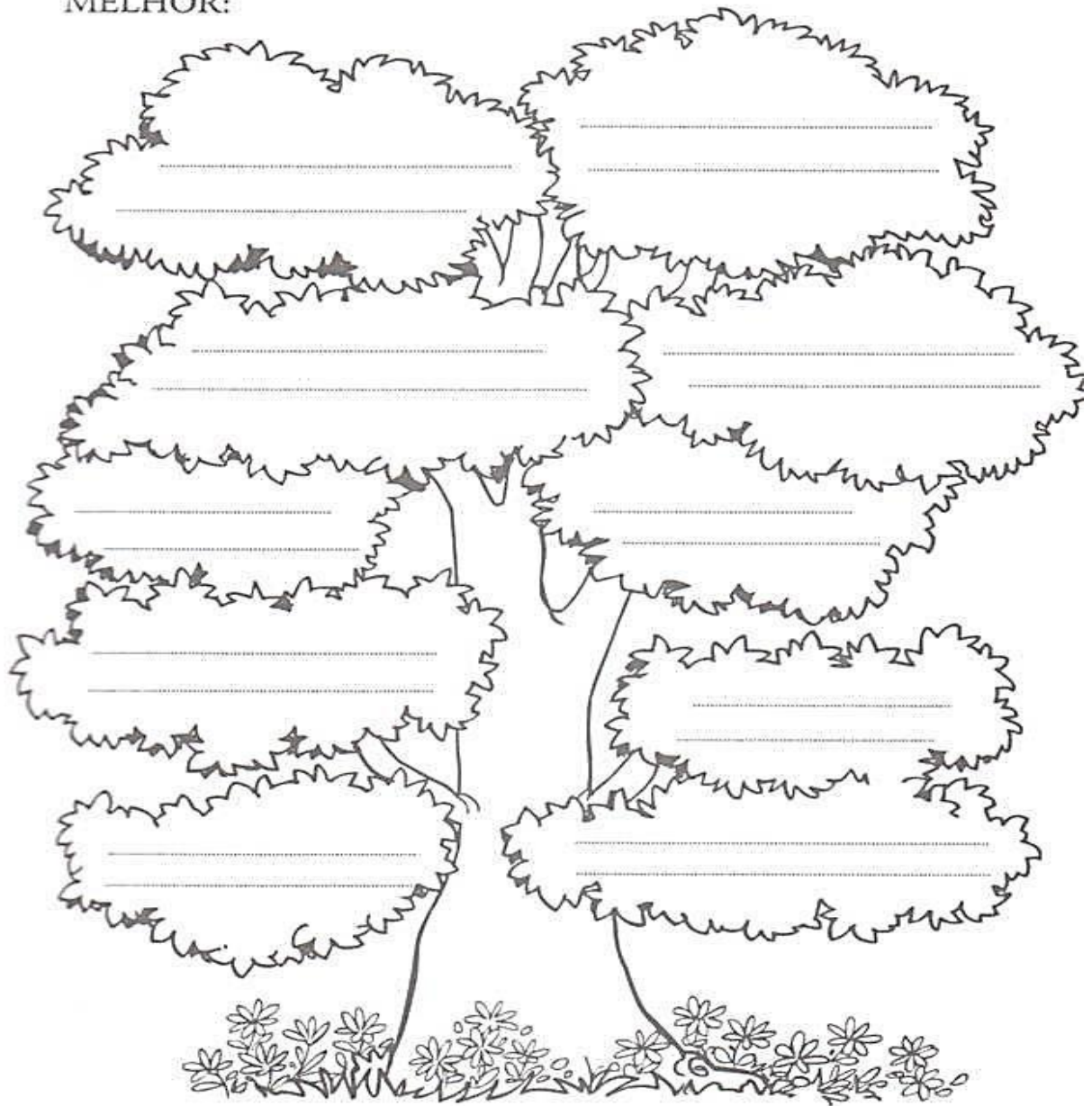
<https://www.youtube.com/watch?v=iYPMZamqSH4>

Agora, realize as atividades das páginas 182 e 184.

ATIVIDADE DE ENSINO RELIGIOSO

**Em seu caderno de português desenhe a árvore e realize a
atividade abaixo:**

✧ Preencha os ramos da ÁRVORE DOS VALORES com frases que demonstram sua ESPERANÇA e suas atitudes por um MUNDO MELHOR:



SAUDADE DE TODOS!!!