


Atividades para semanas do dia 19 de outubro até 31 de outubro

Atividades de Língua portuguesa

Leia na **apostila página 20**, HOJE VOU DE BAILARINA. Depois responda as atividades de interpretação do texto das **páginas 21 até 24**.

Copie o texto A ABELINHA CURIOSA e responda as questões.



A abelhinha curiosa

Emília era a abelhinha mais curiosa da colméia. Gostava de voar para bem longe. Tudo ela queria ver. Tudo ela queria tocar. Tinha vontade de conhecer o mundo.

As outras abelhas queixavam-se à rainha:
_ Por que ela não vem trabalhar também?
_ Quem não trabalha não merece comer!
Até que um dia...

Começou a faltar comida na colméia. As abelhas operárias não encontravam flores de onde tirar o néctar. Voltavam sem nada...

Alguém, então, falou:
_ E a nossa curiosa? Não descobre nada? É só comer, dormir e passear?

Como única resposta, Emília pôs-se a dançar. Pelos movimentos de sua dança, toda a colônia entendeu:
_ Eu sei de um lugar onde há muitas e muitas flores. Fica logo ali.

As operárias saíram na direção indicada. Não foi difícil achar. Ao longo do caminho, Emília havia deixado até mesmo a indicação do cheiro das flores e do sabor do néctar.

À noite, foi aquela festa na colméia! Todos elogiavam a curiosidade de Emília.

D'Olim Marote



Você entendeu o texto?

1- Responda no caderno:

- a) Qual o nome da personagem principal?
- a) Como é a personagem?
- a) Por que ela queria ver e tocar tudo?
- a) O que faziam as outras abelhas?



2- Copie as queixas das outras abelhas. Não se esqueça do travessão.

3- Escreva as frases na ordem em que aparecem no texto:

As operárias saíram na direção indicada.
_ Eu sei de um lugar onde há muitas e muitas flores.
_ À noite, foi aquela festa na colméia!
Como única resposta, Emília pôs-se a dançar.

4- Dê sua opinião:


- a) Quando voava para bem longe, Emília se esquecia das suas obrigações?
- b) Por que Emília deixou marcas no caminho que levava às flores?

Atividades de Matemática

Resolva as atividades das **páginas 101 até 106** sobre subtração COM NÚMEROS ATÉ 100.

Copie e resolva as operações:





Matemática

1. Calcule as operações:

$$\begin{array}{r} 87 \\ + 66 \\ \hline \end{array}$$
$$\begin{array}{r} 48 \\ + 67 \\ \hline \end{array}$$
$$\begin{array}{r} 24 \\ + 33 \\ \hline \end{array}$$
$$\begin{array}{r} 92 \\ + 39 \\ \hline \end{array}$$
$$\begin{array}{r} 56 \\ + 74 \\ \hline \end{array}$$
$$\begin{array}{r} 82 \\ + 51 \\ \hline \end{array}$$

$$\begin{array}{r} 84 \\ + 44 \\ \hline \end{array}$$
$$\begin{array}{r} 90 \\ + 80 \\ \hline \end{array}$$
$$\begin{array}{r} 86 \\ + 97 \\ \hline \end{array}$$
$$\begin{array}{r} 29 \\ + 90 \\ \hline \end{array}$$
$$\begin{array}{r} 75 \\ + 67 \\ \hline \end{array}$$
$$\begin{array}{r} 36 \\ + 49 \\ \hline \end{array}$$


$$\begin{array}{r} 42 \\ + 75 \\ \hline \end{array}$$
$$\begin{array}{r} 34 \\ + 97 \\ \hline \end{array}$$
$$\begin{array}{r} 20 \\ + 39 \\ \hline \end{array}$$
$$\begin{array}{r} 93 \\ + 22 \\ \hline \end{array}$$
$$\begin{array}{r} 75 \\ + 54 \\ \hline \end{array}$$
$$\begin{array}{r} 53 \\ + 28 \\ \hline \end{array}$$

$$\begin{array}{r} 92 \\ + 65 \\ \hline \end{array}$$
$$\begin{array}{r} 33 \\ + 67 \\ \hline \end{array}$$
$$\begin{array}{r} 84 \\ + 17 \\ \hline \end{array}$$
$$\begin{array}{r} 95 \\ + 12 \\ \hline \end{array}$$
$$\begin{array}{r} 59 \\ + 69 \\ \hline \end{array}$$
$$\begin{array}{r} 92 \\ + 49 \\ \hline \end{array}$$

$$\begin{array}{r} 72 \\ + 92 \\ \hline \end{array}$$
$$\begin{array}{r} 64 \\ + 41 \\ \hline \end{array}$$
$$\begin{array}{r} 20 \\ + 46 \\ \hline \end{array}$$
$$\begin{array}{r} 70 \\ + 26 \\ \hline \end{array}$$
$$\begin{array}{r} 77 \\ + 26 \\ \hline \end{array}$$
$$\begin{array}{r} 41 \\ + 27 \\ \hline \end{array}$$

$$\begin{array}{r} 25 \\ + 89 \\ \hline \end{array}$$
$$\begin{array}{r} 58 \\ + 39 \\ \hline \end{array}$$
$$\begin{array}{r} 87 \\ + 40 \\ \hline \end{array}$$
$$\begin{array}{r} 57 \\ + 42 \\ \hline \end{array}$$
$$\begin{array}{r} 92 \\ + 28 \\ \hline \end{array}$$
$$\begin{array}{r} 41 \\ + 48 \\ \hline \end{array}$$

$$\begin{array}{r} 61 \\ + 67 \\ \hline \end{array}$$
$$\begin{array}{r} 39 \\ + 91 \\ \hline \end{array}$$
$$\begin{array}{r} 31 \\ + 37 \\ \hline \end{array}$$
$$\begin{array}{r} 48 \\ + 97 \\ \hline \end{array}$$
$$\begin{array}{r} 20 \\ + 57 \\ \hline \end{array}$$
$$\begin{array}{r} 75 \\ + 52 \\ \hline \end{array}$$



Matemática



1. Resolva as subtrações:

$$\begin{array}{r} 20 \\ -17 \\ \hline \end{array} \quad \begin{array}{r} 96 \\ -38 \\ \hline \end{array} \quad \begin{array}{r} 48 \\ -40 \\ \hline \end{array} \quad \begin{array}{r} 12 \\ -9 \\ \hline \end{array} \quad \begin{array}{r} 67 \\ -51 \\ \hline \end{array}$$

$$\begin{array}{r} 23 \\ -5 \\ \hline \end{array} \quad \begin{array}{r} 34 \\ -24 \\ \hline \end{array} \quad \begin{array}{r} 85 \\ -39 \\ \hline \end{array} \quad \begin{array}{r} 50 \\ -9 \\ \hline \end{array} \quad \begin{array}{r} 62 \\ -45 \\ \hline \end{array}$$

$$\begin{array}{r} 78 \\ -51 \\ \hline \end{array} \quad \begin{array}{r} 77 \\ -29 \\ \hline \end{array} \quad \begin{array}{r} 83 \\ -78 \\ \hline \end{array} \quad \begin{array}{r} 35 \\ -16 \\ \hline \end{array} \quad \begin{array}{r} 51 \\ -10 \\ \hline \end{array}$$

$$\begin{array}{r} 81 \\ -61 \\ \hline \end{array} \quad \begin{array}{r} 72 \\ -71 \\ \hline \end{array} \quad \begin{array}{r} 27 \\ -10 \\ \hline \end{array} \quad \begin{array}{r} 91 \\ -39 \\ \hline \end{array} \quad \begin{array}{r} 46 \\ -46 \\ \hline \end{array}$$

$$\begin{array}{r} 35 \\ -20 \\ \hline \end{array} \quad \begin{array}{r} 64 \\ -55 \\ \hline \end{array} \quad \begin{array}{r} 32 \\ -24 \\ \hline \end{array} \quad \begin{array}{r} 41 \\ -22 \\ \hline \end{array} \quad \begin{array}{r} 53 \\ -40 \\ \hline \end{array}$$



Atividades de ciências

Faça a leitura de imagens **na página 168**, UMA VIDA COM SAÚDE. Leia o texto CUIDADOS COM A SAÚDE e ALIMENTAÇÃO das **páginas 169 e 170** depois responda as questões das **páginas 171 até 173** referente os textos.

Atividades de história

Leia o texto A SEMANA e O MÊS, **das páginas 211 e 212**. Depois responda as atividades das **páginas 213 até 219**.

Atividades de geografia

Leia o texto da **página 252** sobre OS ESPAÇOS DA ESCOLA depois responda as questões das **páginas 253 até 255**.



Atividades de Arte

Que tal fazer uma abelha com materiais recicláveis.



Atividades de Educação Religiosa

A abelha trabalha em cooperação uma com a outra. Isso deveria acontecer em nossa comunidade, nossa casa e na escola. Ilustre um momento de cooperação em sua casa.



Tenha uma ótima semana!



