

C.E.M. Ivo Dalla Costa

Diretora: Adriana Piaia

Professora: Tânia Mara Zanata

Aluno (a): _____ 3º ano

Água Doce, aulas de 19 a 30 de outubro de 2020

Português

Atividade na apostila módulo 3 - Leitura 3 página 36 a 47.

Faça a leitura do poema: Quem tem medo de cachorro? Da página 36 a 37.

Conversando sobre o texto: Responda oralmente para alguém de sua família, as questões 1 a 4.

Estudando o texto: No poema quem tem medo de cachorro?

Um grupo de versos que chamamos de estrofe.

Produção textual: Poema.

A palavra "poema" deriva do verbo grego "poein" que significa "fazer, criar, compor". Poema é uma obra literária que pertence ao gênero da poesia, e cuja apresentação é dividida em estrofes e versos. Cada estrofe é constituída por versos (não tendo um número exato), com a finalidade de manifestar sentimento e emoção.

- ✓ Verso é cada linha do poema.
- ✓ Estrofe é um conjunto de versos.
- ✓ Rimas são sons semelhantes no final ou no interior dos versos. E são responsáveis pela melodia nos poemas.



Responda as questões páginas 36 a 41.

Comparando os textos: Responda as questões página 42.

Produção oral: Que atitude tomar? Responda as questões da página 43 a 44.

Produção de escrita: Criando versos divertidos.

Leia os versos da página 45 e responda as questões da página 46.

Copie no caderno de português: O que você estudou.

História

Apostila módulo 3- Continue as atividades do capítulo 7 – As manifestações culturais. Páginas 246 a 248.

Artes

Assista o vídeo: Como desenhar fácil uma abelha.

https://www.youtube.com/watch?V=dgqt_xbvydi

Simetria

O que é simetria:

A simetria é definida como tudo **aquilo que pode ser dividido em partes, sendo que ambas as partes devem coincidir perfeitamente quando sobrepostas.**

Atividade no caderno de artes


Material: Tinta guache e pincel

Como fazer:

Dobre a folha do caderno ao meio

Desenhe primeiro a lápis desenhando meia abelha, depois passe tinta sobre ela. Não deixe secar e dobre a folha, abra a folha novamente e deixe secar.

Observe o desenho abaixo;



Ciências

Atividades na apostila módulo 03- capítulo 17: Partes das plantas III. Páginas 182 a 188.

Frutos: Leia sobre os frutos na página 183.

Semente: Leia o texto da página 184.

Resolva as atividades para a sala: Página 186.

Atividade para casa: Responda as atividades da página 187 e 188.

Atividade no caderno: Apenas para ler.

Saber mais sobre a importância das abelhas.



**PROJETO: O QUE VOCÊ PRECISA
SABER SOBRE AS ABELHAS**
Autora: Simone Helen Drumond Ischkanian

As abelhas adultas se alimentam geralmente de néctar e são os mais importantes agentes de polinização.

As abelhas polinizam flores de cores monótonas, escuras e pardacentas (todos os tipos de flores).

Abelha



**PROJETO: O QUE VOCÊ PRECISA
SABER SOBRE AS ABELHAS**
Autora: Simone Helen Drumond Ischkanian

Uma abelha visita dez flores por minuto em busca de pólen e do néctar.

Ela faz, em média, quarenta voos diários, tocando em 40 mil flores.

Abelha





**PROJETO: O QUE VOCÊ PRECISA
SABER SOBRE AS ABELHAS**

Autora: Simone Helen Drumond Ischkanian

Com a língua, as abelhas recolhem o néctar do fundo de cada flor e guardam-no numa bolsa localizada na garganta. Depois voltam à colmeia e o néctar vai passando de abelha em abelha. Desse modo a água que ele contém se evapora, ele engrossa e se transforma em mel.

A maioria das abelhas transporta uma carga eletrostática, que ajuda-as na aderência ao pólen.

Abelha



**PROJETO: O QUE VOCÊ PRECISA
SABER SOBRE AS ABELHAS**

Autora: Simone Helen Drumond Ischkanian

As abelhas são insetos que vivem em sociedades (com distinção de funções dentro da sociedade).

Elas são conhecidas há mais de 40.000 anos e as que mais se prestam para a polinização, ajudando enormemente a agricultura, produção de mel, geleia real, cera e própolis, são as abelhas pertencentes ao gênero Apis.

Abelha



**PROJETO: O QUE VOCÊ PRECISA
SABER SOBRE AS ABELHAS**

Autora: Simone Helen Drumond Ischkanian

Inseto laborioso, disciplinado, a abelha convive num sistema de extraordinária organização: em cada colmeia existem cerca de 80.000 abelhas e cada colônia é constituída por uma única rainha, cerca de 400 zangões.

Abelha



**PROJETO: O QUE VOCÊ PRECISA
SABER SOBRE AS ABELHAS**

Autora: Simone Helen Drumond Ischkanian


A rainha é personagem central e mais importante da sociedade.

Abelha



Atividade para fazer no caderno;

- 1) Escolha um dos quadrinhos sobre as abelhas e copie no seu caderno, o título é: Saber sobre as abelhas.
- 2) Faça o desenho de uma abelha e complete com sua parte: olhos, corpo, asas, ferrão, patas e antenas.



Matemática

Atividades na apostila módulo 03: Mais sobre multiplicação

Leia com atenção a página 109.

Atividades: Resolvas as atividades da página 110 a 114.

No caderno resolva os cálculos abaixo:

$$\begin{array}{r} 9 \\ \times 2 \\ \hline \end{array}$$

$$\begin{array}{r} 2 \\ \times 7 \\ \hline \end{array}$$

$$\begin{array}{r} 3 \\ \times 4 \\ \hline \end{array}$$

$$\begin{array}{r} 2 \\ \times 8 \\ \hline \end{array}$$

$$\begin{array}{r} 3 \\ \times 8 \\ \hline \end{array}$$

$$\begin{array}{r} 5 \\ \times 3 \\ \hline \end{array}$$

$$\begin{array}{r} 3 \\ \times 6 \\ \hline \end{array}$$

$$\begin{array}{r} 8 \\ \times 3 \\ \hline \end{array}$$

$$\begin{array}{r} 6 \\ \times 3 \\ \hline \end{array}$$

$$\begin{array}{r} 4 \\ \times 3 \\ \hline \end{array}$$

$$\begin{array}{r} 2 \\ \times 6 \\ \hline \end{array}$$

$$\begin{array}{r} 9 \\ \times 2 \\ \hline \end{array}$$

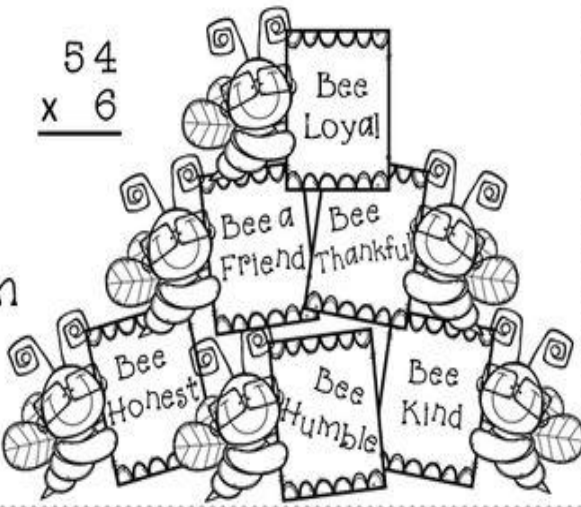
$$\begin{array}{r} 5 \\ \times 2 \\ \hline \end{array}$$

$$\begin{array}{r} 3 \\ \times 9 \\ \hline \end{array}$$

$$\begin{array}{r} 2 \\ \times 2 \\ \hline \end{array}$$

$$\begin{array}{r} 2 \\ \times 4 \\ \hline \end{array}$$

Name _____

$\begin{array}{r} 35 \\ \times 8 \\ \hline \end{array}$	$\begin{array}{r} 95 \\ \times 3 \\ \hline \end{array}$	$\begin{array}{r} 55 \\ \times 6 \\ \hline \end{array}$	$\begin{array}{r} 96 \\ \times 3 \\ \hline \end{array}$	$\begin{array}{r} 77 \\ \times 7 \\ \hline \end{array}$	$\begin{array}{r} 72 \\ \times 6 \\ \hline \end{array}$
$\begin{array}{r} 69 \\ \times 3 \\ \hline \end{array}$	$\begin{array}{r} 33 \\ \times 9 \\ \hline \end{array}$	$\begin{array}{r} 97 \\ \times 3 \\ \hline \end{array}$	$\begin{array}{r} 87 \\ \times 3 \\ \hline \end{array}$	$\begin{array}{r} 89 \\ \times 7 \\ \hline \end{array}$	$\begin{array}{r} 39 \\ \times 8 \\ \hline \end{array}$
$\begin{array}{r} 38 \\ \times 6 \\ \hline \end{array}$	$\begin{array}{r} 47 \\ \times 8 \\ \hline \end{array}$	$\begin{array}{r} 56 \\ \times 4 \\ \hline \end{array}$	$\begin{array}{r} 58 \\ \times 5 \\ \hline \end{array}$	$\begin{array}{r} 57 \\ \times 7 \\ \hline \end{array}$	$\begin{array}{r} 78 \\ \times 4 \\ \hline \end{array}$
$\begin{array}{r} 37 \\ \times 4 \\ \hline \end{array}$	$\begin{array}{r} 92 \\ \times 4 \\ \hline \end{array}$	$\begin{array}{r} 99 \\ \times 8 \\ \hline \end{array}$	$\begin{array}{r} 43 \\ \times 5 \\ \hline \end{array}$	$\begin{array}{r} 88 \\ \times 4 \\ \hline \end{array}$	$\begin{array}{r} 24 \\ \times 7 \\ \hline \end{array}$
$\begin{array}{r} 57 \\ \times 8 \\ \hline \end{array}$	$\begin{array}{r} 63 \\ \times 6 \\ \hline \end{array}$	$\begin{array}{r} 54 \\ \times 6 \\ \hline \end{array}$			

This year I'm going to...

©Copper Classroom

*tradução: Este ano eu vou...

Geografia

Atividades na apostila módulo 03 (a nova cor roxa) capítulo 10: Povos indígenas e sua cultura.

Leia o texto 263 e 264.

Atividade para a sala: Responda a questão da página 264.

Quantas abelhas há na imagem?

Resp:

