

CEM DO CAMPO CULTIVANDO O SABER

DIRETORA: ADRIANA TONIAL PIAIA

PROFESSORA: MARCIA SIMÃO

ÁGUA DOCE, 19 A 30 OUTUBRO 2020

Aluno (a): \_\_\_\_\_ 3ºano



**BOM DIA...QUERIDO ALUNO**

**ATENÇÃO!**

**COPIE EM SEU CADERNO O NOME DA ESCOLA E A DATA.**

**LEMBRETE: CAPRICHAR NA LETRA E PASSAR TRAÇO, DEPOIS DE CADA ATIVIDADE! LEMBRANDO QUE TEMOS 15 DIAS PARA REALIZAR TODAS AS ATIVIDADES, ENTÃO SE ORGANIZE E FAÇA UM POUCO POR DIA .**

- **IMPORTANTE LER COM ATENÇÃO.**

## PORTUGUÊS

**ATIVIDADE NA APOSTILA MÓDULO 3- LEITURA 3 PG 36 A 47.**

- FAÇA A LEITURA DO POEMA- QUEM TEM MEDO DE CACHORRO? DA PÁGINA 36 A 37.
- CONVERSANDO SOBRE O TEXTO- RESPONDA ORALMENTE PARA ALGUÉM DE SUA FAMÍLIA, AS QUESTÕES 1 A 4.
- ESTUDANDO O TEXTO- NO POEMA QUEM TEM MEDO DE CACHORRO?

**UM GRUPO DE VERSOS QUE CHAMAMOS DE ESTROFE.**

### Produção textual: Poema.

A palavra "poema" deriva do verbo grego "poein" que significa "fazer, criar, compor". Poema é uma obra literária que pertence ao gênero da poesia, e cuja apresentação é dividido em estrofes e versos. Cada estrofe é constituída por versos (não tendo um número exato), com a finalidade de manifestar sentimento e emoção.

- ✓ **Verso** é cada linha do poema.
- ✓ **Estrofe** é um conjunto de versos.
- ✓ **Rimas** são sons semelhantes no final ou no interior dos versos. E são responsáveis pela melodia nos poemas.



- RESPONDA AS QUESTÕES PÁGINAS 30 A 41.
- COMPARANDO OS TEXTOS- RESPONDA AS QUESTÕES PG 42.
- PRODUÇÃO ORAL – QUE ATITUDE TOMAR? RESPONDA AS QUESTÕES DA PÁGINA 43 A 44.
- PRODUÇÃO DE ESCRITA- CRIANDO VERSOS DIVERTIDOS.

LEIA OS VERSOS DA PÁGINA 45 E RESPONDA AS QUESTÕES DA PÁGINA 46.

 COPIE NO CADERNO DE PORTUGUÊS – O QUE VOCÊ ESTUDOU.

## HISTÓRIA

**APOSTILA MÓDULO 3**- CONTINUE AS ATIVIDADES DO CAPÍTULO 7 – AS MANIFESTAÇÕES CULTURAIS.  
PÁGINAS 246 A 248.

## ARTE

[https://www.youtube.com/watch?v=DGqt\\_xbvYdl](https://www.youtube.com/watch?v=DGqt_xbvYdl)

**ASSISTA O VIDEO** :COMO DESENHAR FÁCIL UMA ABELHA.

## SIMETRIA

### O que é Simetria:

A simetria é definida como tudo **aquilo que pode ser dividido em partes, sendo que ambas as partes devem coincidir perfeitamente quando sobrepostas.**

- ATIVIDADE NO CADERNO DE ARTES-
- MATERIAL – TINTA GUACHE E PINCEL




### COMO FAZER:

DOBRE A FOLHA DO CADERNO AO MEIO

DESENHE PRIMEIRO A LÁPIS DESENHE MEIA ABELHA, DEPOIS PASSE TINTA SOBRE ELA. NÃO DEIXE SECAR E DOBRE A FOLHA, ABRA A FOLHA NOVAMENTE E DEIXE SECAR.

OBSERVE O  
DESENHO



## CIÊNCIAS

ATIVIDADES NA APOSTILA MÓDULO 03- CAPÍTULO 17- PARTES DAS PLANTAS III. PÁGINAS 182 A 188.

FRUTOS- LEIA SOBRE OS FRUTOS NA PÁGINA 183.

SEMENTE- LEIA O TEXTO DA PÁGINA 184.

RESOLVA AS ATIVIDADES PARA A SALA - PÁGINA 186.

ATIVIDADE PARA CASA- RESPONDA AS ATIVIDADES DA PÁGINA 187 E 188.

ATIVIDADE NO CADERNO: APENAS PARA LER;

SABER MAIS SOBRE A IMPORTÂNCIA DAS ABELHAS .



### PROJETO: O QUE VOCÊ PRECISA SABER SOBRE AS ABELHAS

Autora: Simone Helen Drumond Ischkanian

As abelha adultas se alimentam geralmente de néctar e são os mais importantes agentes de polinização.

As abelhas polinizam flores de cores monótonas, escuras e pardacentas (todos os tipos de flores).

## Abelha



### PROJETO: O QUE VOCÊ PRECISA SABER SOBRE AS ABELHAS

Autora: Simone Helen Drumond Ischkanian

Com a língua, as abelhas recolhem o néctar do fundo de cada flor e guardam-no numa bolsa localizada na garganta. Depois voltam à colmeia e o néctar vai passando de abelha em abelha. Desse modo a água que ele contém se evapora, ele engrossa e se transforma em mel.

A maioria das abelhas transporta uma carga eletrostática, que ajuda-as na aderência ao pólen.

## Abelha



### PROJETO: O QUE VOCÊ PRECISA SABER SOBRE AS ABELHAS

Autora: Simone Helen Drumond Ischkanian

Uma abelha visita dez flores por minuto em busca de pólen e do néctar.

Ela faz, em média, quarenta voos diários, tocando em 40 mil flores.

## Abelha



### PROJETO: O QUE VOCÊ PRECISA SABER SOBRE AS ABELHAS

Autora: Simone Helen Drumond Ischkanian

As abelhas são insetos que vivem em sociedades (com distinção de funções dentro da sociedade).

Elas são conhecidas há mais de 40.000 anos e as que mais se prestam para a polinização, ajudando enormemente a agricultura, produção de mel, geleia real, cera e própolis, são as abelhas pertencentes ao gênero Apis.

## Abelha





**PROJETO: O QUE VOCÊ PRECISA  
SABER SOBRE AS ABELHAS**  
Autora: Simone Helen Drumond Ischkanian

Inseto laborioso, disciplinado, a abelha convive num sistema de extraordinária organização: em cada colmeia existem cerca de 80.000 abelhas e cada colônia é constituída por uma única rainha, cerca de 400 zangões.

## Abelha



**PROJETO: O QUE VOCÊ PRECISA  
SABER SOBRE AS ABELHAS**  
Autora: Simone Helen Drumond Ischkanian

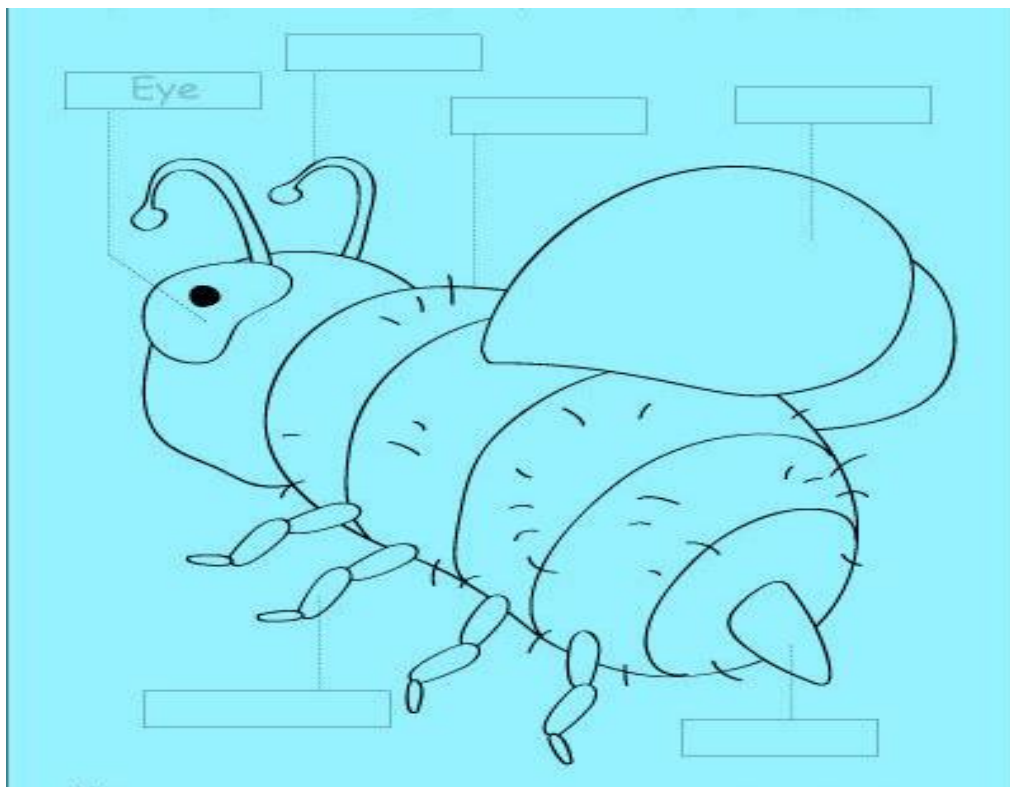
A rainha é personagem central e mais importante da sociedade.

## Abelha



ATIVIDADE PARA FAZER NO CADERNO;

- 1) ESCOLHA UM DOS QUADRINHOS SOBRE AS ABELHAS E COPIE NO SEU CADERNO, O TÍTULO É: SABER SOBRE AS ABELHAS.
- 2) FAÇA O DESENHO DE UMA ABELHA E COMPLETE COM SUA PARTE: OLHOS, CORPO, ASAS, FERRÃO, PATAS E ANTENAS.



## MATEMÁTICA

ATIVIDADES NA APOSTILA MÓDULO 03- MAIS SOBRE MULTIPLICAÇÃO

LEIA COM ATENÇÃO A PÁGINA 109.

ATIVIDADES- RESOLVA AS ATIVIDADES DA PÁGINA 110 A 114.

NO CADERNO RESOLVA OS CÁLCULOS ABAIXO:

$$\begin{array}{r} 9 \\ \times 2 \\ \hline \end{array}$$

$$\begin{array}{r} 2 \\ \times 7 \\ \hline \end{array}$$

$$\begin{array}{r} 3 \\ \times 4 \\ \hline \end{array}$$

$$\begin{array}{r} 2 \\ \times 8 \\ \hline \end{array}$$

$$\begin{array}{r} 3 \\ \times 8 \\ \hline \end{array}$$

$$\begin{array}{r} 5 \\ \times 3 \\ \hline \end{array}$$

$$\begin{array}{r} 3 \\ \times 6 \\ \hline \end{array}$$

$$\begin{array}{r} 8 \\ \times 3 \\ \hline \end{array}$$

$$\begin{array}{r} 6 \\ \times 3 \\ \hline \end{array}$$

$$\begin{array}{r} 4 \\ \times 3 \\ \hline \end{array}$$

$$\begin{array}{r} 2 \\ \times 6 \\ \hline \end{array}$$

$$\begin{array}{r} 9 \\ \times 2 \\ \hline \end{array}$$

$$\begin{array}{r} 5 \\ \times 2 \\ \hline \end{array}$$

$$\begin{array}{r} 3 \\ \times 9 \\ \hline \end{array}$$

$$\begin{array}{r} 2 \\ \times 2 \\ \hline \end{array}$$

$$\begin{array}{r} 2 \\ \times 4 \\ \hline \end{array}$$

Name \_\_\_\_\_

$$\begin{array}{r} 35 \\ \times 8 \\ \hline \end{array}$$
$$\begin{array}{r} 95 \\ \times 3 \\ \hline \end{array}$$
$$\begin{array}{r} 55 \\ \times 6 \\ \hline \end{array}$$
$$\begin{array}{r} 96 \\ \times 3 \\ \hline \end{array}$$
$$\begin{array}{r} 77 \\ \times 7 \\ \hline \end{array}$$
$$\begin{array}{r} 72 \\ \times 6 \\ \hline \end{array}$$

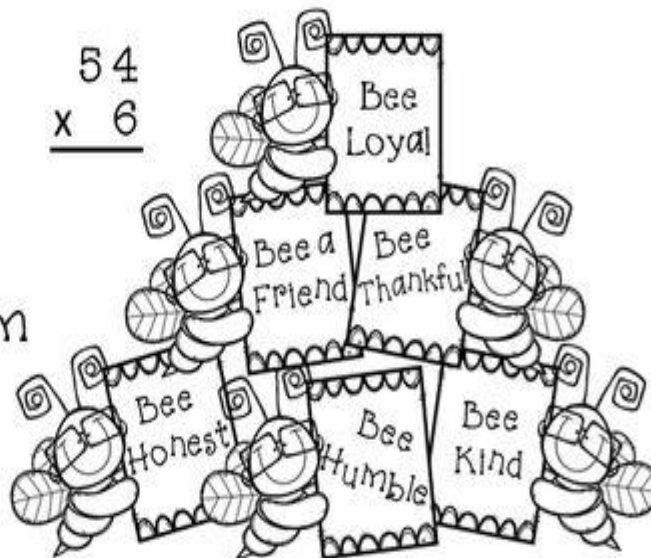
$$\begin{array}{r} 69 \\ \times 3 \\ \hline \end{array}$$
$$\begin{array}{r} 33 \\ \times 9 \\ \hline \end{array}$$
$$\begin{array}{r} 97 \\ \times 3 \\ \hline \end{array}$$
$$\begin{array}{r} 87 \\ \times 3 \\ \hline \end{array}$$
$$\begin{array}{r} 89 \\ \times 7 \\ \hline \end{array}$$
$$\begin{array}{r} 39 \\ \times 8 \\ \hline \end{array}$$

$$\begin{array}{r} 38 \\ \times 6 \\ \hline \end{array}$$
$$\begin{array}{r} 47 \\ \times 8 \\ \hline \end{array}$$
$$\begin{array}{r} 56 \\ \times 4 \\ \hline \end{array}$$
$$\begin{array}{r} 58 \\ \times 5 \\ \hline \end{array}$$
$$\begin{array}{r} 57 \\ \times 7 \\ \hline \end{array}$$
$$\begin{array}{r} 78 \\ \times 4 \\ \hline \end{array}$$

$$\begin{array}{r} 37 \\ \times 4 \\ \hline \end{array}$$
$$\begin{array}{r} 92 \\ \times 4 \\ \hline \end{array}$$
$$\begin{array}{r} 99 \\ \times 8 \\ \hline \end{array}$$
$$\begin{array}{r} 43 \\ \times 5 \\ \hline \end{array}$$
$$\begin{array}{r} 88 \\ \times 4 \\ \hline \end{array}$$
$$\begin{array}{r} 24 \\ \times 7 \\ \hline \end{array}$$

$$\begin{array}{r} 57 \\ \times 8 \\ \hline \end{array}$$
$$\begin{array}{r} 63 \\ \times 6 \\ \hline \end{array}$$
$$\begin{array}{r} 54 \\ \times 6 \\ \hline \end{array}$$

This year I'm  
going to...



©Copper Classroom

\*TRADUÇÃO – ESTE ANO EU VOU...

ATIVIDADES NA APOSTILA MÓDULO 03 ( A NOVA COR ROXA) CAPÍTULO 10- POVOS INDÍGENAS E SUA CULTURA.

**LEIA O TEXTO 263 E 264.**

**ATIVIDADE PARA A SALA-** RESPONDA A QUESTÃO DA PÁGINA 264.

**QUANTAS ABELHAS HÁ NA IMAGEM?**



BOA SORTE!

