

PLANEJAMENTO DAS ATIVIDADES DO DIA 03 AO DIA 13 DE NOVEMBRO DE 2020

Escola Municipal Lindaura Eleutério da Luz

Vista Alegre, ___ de _____ de 2020

Diretora: Adriana Maria Tonial Piaia

Professora: Dayane de Moraes

Aluno(a): _____ 2º ano

HOJE É SEGUNDA - FEIRA

ATIVIDADES DE HISTÓRIA

1- Texto somente para leitura

PROCLAMAÇÃO DA REPÚBLICA

O Brasil era governado pelo rei de Portugal, D. João VI.

Quando a família real voltou para Lisboa, seu filho Pedro ficou representando o império real. Quando proclamou a Independência, Pedro se tornou o primeiro imperador do Brasil e passou a se chamar D. Pedro I. D. Pedro I, após alguns anos de governo, deixou o poder e, um tempo depois, seu filho D. Pedro II assumiu o trono.

O Brasil então teve dois imperadores: D. Pedro I e D. Pedro II.

Os brasileiros, insatisfeitos com D. Pedro II, resolveram fazer um movimento para mudar a forma de governo.

Eles queriam um governo Republicano, o povo queria escolher seus representantes.

No dia 15 de novembro de 1889, Marechal Deodoro da Fonseca proclamou a República.

O Brasil passou a ser governado por um presidente, Marechal Deodoro da Fonseca, nosso primeiro presidente da República.



Copie o calendário do mês de novembro no caderno e circule com lápis amarelo, a data que ocorreu a proclamação da República.

NOVEMBRO 2020						
DOM	SEG	TER	QUA	QUI	SEX	SÁB
1	2	3	4	5	6	7
8	9	10	11	12	13	14
15	16	17	18	19	20	21
22	23	24	25	26	27	28
29	30					

Em que dia da semana está 15 de novembro?

1- Por que o dia 15 de novembro é feriado nacional?

2- Quem proclamou a república?

Escola Municipal Lindaura Eleutério da Luz
Vista Alegre, ___ de _____ de 2020

Diretora: Adriana Maria Tonial Piaia

Professora: _____

Aluno(a): _____ 2º ano

HOJE É TERÇA - FEIRA

ATIVIDADES DE PORTUGUÊS

TEXTO SOMENTE PARA LEITURA





Responda no caderno

Escolha a opção correta:

Quando foi que o Brasil deixou de ser governado por imperador?

() 7 de setembro () 15 de novembro () 21 de abril

Quem proclamou a república no Brasil

() Dom Pedro I () Tiradentes () Marechal Deodoro da Fonseca

Fazer atividades na apostila de Português.

- Atividades das páginas: **47 a 49.**
- Leitura das páginas: **50 e 51.**
- Atividades das páginas: **52 a 54.**

Escola Municipal Lindaura Eleutério da Luz

Vista Alegre, ___ de _____ de 2020

Diretora: Adriana Maria Tonial Piaia


Professora: _____

Aluno(a): _____ 2º ano





HOJE É QUARTA- FEIRA

ATIVIDADES DE MATEMÁTICA

Copie no caderno e resolva.



Uma criança ganha do seu pai várias moedas toda semana. Então vamos ajudá-los a contar quanto conseguiu juntar em 4 semanas.

1ª semana		R\$
2ª semana		R\$
3ª semana		R\$
4ª semana		R\$

Quanto foi o total que a criança juntou?

Resposta: _____

Fazer atividades na apostila.

SISTEMA MONETÁRIO BRASILEIRO

Leitura das páginas **116 e 117**.

FORMAS GEOMÉTRICAS PLANAS

Atividades das páginas: **118 a 121**.

Atividades da página: **122**.

Leitura das páginas: **125 e 126**.

Escola Municipal Lindaura Eleutério da Luz

Vista Alegre, ___ de _____ de 2020

Diretora: Adriana Maria Tonial Piaia

Professora: _____

Aluno(a): _____ 2º ano

HOJE É QUINTA- FEIRA

ATIVIDADES DE CIÊNCIAS

MANTENDO A SAÚDE

Leitura das páginas: **174 a 178.**

Atividades das páginas: **179 a 184.**

ATIVIDADES DE GEOGRAFIA

O AMBIENTE E O NOSSO COTIDIANO

Leitura da página: **259.**

Atividades da página: **260.**

Leitura da página: **26.1**

Atividades da página: **262.**

Leitura das páginas: **263 a 265 (atividade somente para leitura).**

Escola Municipal Lindaura Eleutério da Luz

Vista Alegre, ___ de _____ de 2020

Diretora: Adriana Maria Tonial Piaia

Professora: _____

Aluno(a): _____ 2º ano



HOJE É SEXTA- FEIRA

ATIVIDADE DE ENDINO RELIGIOSO

Desenhe como você consegue ou recorte de algum livro o mapa do Brasil. Siga as instruções abaixo.

2- Escreva as palavras que você não riscou em ordem alfabética.

3- Escolha 3 palavras da questão 2 e forme uma linda frase.

ATIVIDADES DE ARTE

Bandeira do Brasil



Utilize as formas geométricas que fazem parte da bandeira do Brasil e forme um novo desenho. Pode repetir as figuras quantas vezes desejar e pintar com suas cores preferidas.

