

CENTRO EDUCACIONAL MUNICIPAL MARCELINO IVO DALLA COSTA

DIRETORA: ADRIANA TONIAL PIAIA

PROFESSORA: CLEUCI FÁTIMA DOS SANTOS

ALUNO:.....1º ANO

AULAS PARA SEMANAS DO DIA 30 DE NOVEMBRO ATÉ 11 DEZEMBRO

ATIVIDADES DE LÍNGUA PORTUGUESA

COPIE EM SEU CADERNO O TEXTO: OLHANDO PELA JANELA DEPOIS RESPONDA AS QUESTÕES.

OLHANDO PELA JANELA



DA JANELA DO CELEIRO
O GATO JUCA E A ÉGUA JUJU
OLHAM A PLANTAÇÃO DE JILÓ
E NO POMAR O PÉ DE CAJU

SEU JUVENAL CUIDA DE TUDO
COM SEU FILHO JOSÉ FILIPE
DEPOIS VOLTA PARA CASA
EM SEU BELO E VELHO JIPE.



GI BARBOSA

DE OLHO NA ATIVIDADE

1 - MARQUE A OPÇÃO CORRETA:

A. QUEM OLHA PELA JANELA?

() JUCA E JUJU
() JOSÉ FELIPE E JUVENAL
() JULIANA E JUCA



B. OS ANIMAIS QUE OLHAM PELA JANELA SÃO...



- () UM GATO E UM BURRO
- () UMA ÉGUA E UM GATO
- () UM CACHORRO E UM CAVALO

C. PELA JANELA ELES OLHAM UMA PLANTAÇÃO DE ...

- () CAJÁ
- () JILÓ
- () CAJU

D. JUCA E JUJU TAMBÉM OLHAM UM PÉ DE ...

- () CAJU
- () MANGA
- () JABUTICABA


E. JUVENAL E SEU FILHO VOLTAM PRA CASA DE ...

- () CAVALO
- () BICICLETA
- () JIPE

2 - ESCREVA DE SEU JEITO OS NOMES DAS FIGURAS.









NA APOSTILA RESOLVA AS ATIVIDADES SOBRE A LETRA **J** NAS PÁGINAS 73 E 74.

ATIVIDADES DE MATEMÁTICA



Resolva as operações:



$$\begin{array}{r} 50 \\ - 32 \\ \hline \end{array}$$

$$\begin{array}{r} 38 \\ - 35 \\ \hline \end{array}$$

$$\begin{array}{r} 11 \\ - 5 \\ \hline \end{array}$$

$$\begin{array}{r} 24 \\ - 10 \\ \hline \end{array}$$

$$\begin{array}{r} 50 \\ - 45 \\ \hline \end{array}$$

$$\begin{array}{r} 43 \\ - 13 \\ \hline \end{array}$$

$$\begin{array}{r} 41 \\ - 22 \\ \hline \end{array}$$

$$\begin{array}{r} 42 \\ - 30 \\ \hline \end{array}$$

$$\begin{array}{r} 37 \\ - 19 \\ \hline \end{array}$$

$$\begin{array}{r} 69 \\ - 29 \\ \hline \end{array}$$

$$\begin{array}{r} 36 \\ - 18 \\ \hline \end{array}$$

$$\begin{array}{r} 72 \\ - 53 \\ \hline \end{array}$$

$$\begin{array}{r} 47 \\ - 44 \\ \hline \end{array}$$

$$\begin{array}{r} 25 \\ - 7 \\ \hline \end{array}$$

$$\begin{array}{r} 70 \\ - 16 \\ \hline \end{array}$$

$$\begin{array}{r} 25 \\ - 6 \\ \hline \end{array}$$

$$\begin{array}{r} 51 \\ - 14 \\ \hline \end{array}$$

$$\begin{array}{r} 86 \\ - 50 \\ \hline \end{array}$$

$$\begin{array}{r} 23 \\ - 9 \\ \hline \end{array}$$

$$\begin{array}{r} 94 \\ - 94 \\ \hline \end{array}$$

$$\begin{array}{r} 67 \\ - 25 \\ \hline \end{array}$$

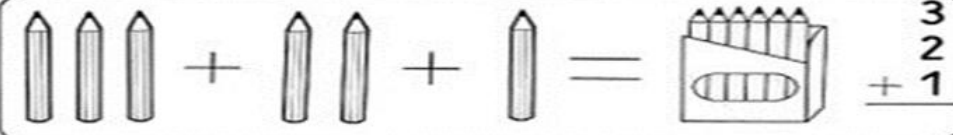
$$\begin{array}{r} 88 \\ - 19 \\ \hline \end{array}$$

$$\begin{array}{r} 91 \\ - 37 \\ \hline \end{array}$$

$$\begin{array}{r} 10 \\ - 2 \\ \hline \end{array}$$

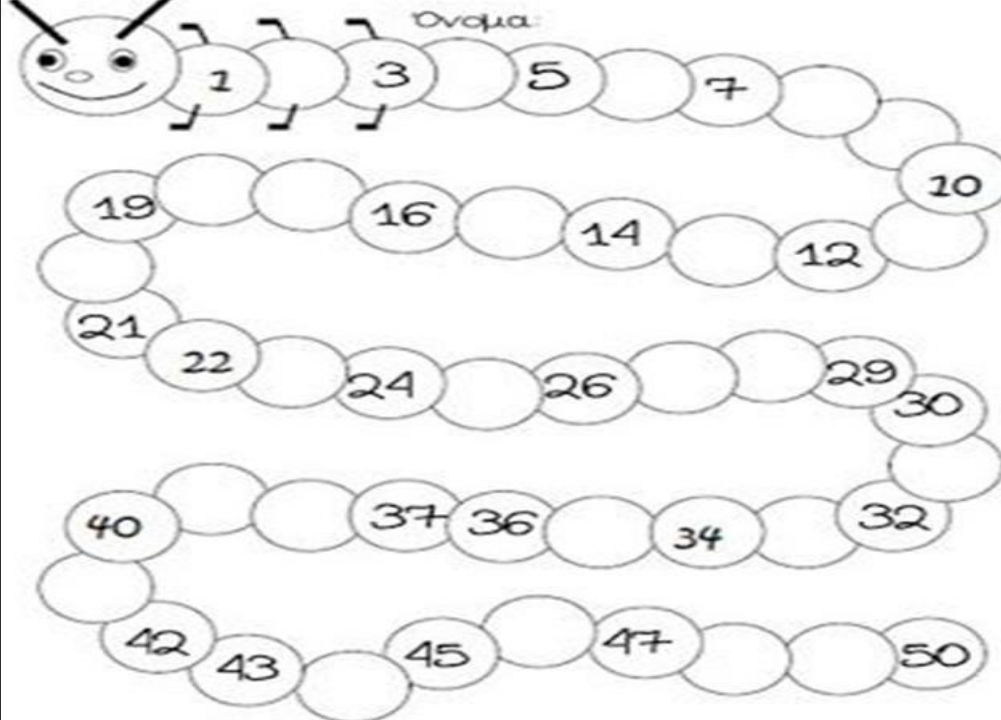
$$\begin{array}{r} 39 \\ - 30 \\ \hline \end{array}$$





$\begin{array}{r} 60 \\ + 21 \\ \hline \end{array}$	$\begin{array}{r} 27 \\ + 21 \\ \hline \end{array}$	$\begin{array}{r} 44 \\ + 10 \\ \hline \end{array}$	$\begin{array}{r} 46 \\ + 23 \\ \hline \end{array}$	$\begin{array}{r} 15 \\ + 32 \\ \hline \end{array}$
$\begin{array}{r} 27 \\ 10 \\ + 1 \\ \hline \end{array}$	$\begin{array}{r} 16 \\ 12 \\ + 10 \\ \hline \end{array}$	$\begin{array}{r} 42 \\ 13 \\ + 43 \\ \hline \end{array}$	$\begin{array}{r} 10 \\ 46 \\ + 32 \\ \hline \end{array}$	$\begin{array}{r} 2 \\ 14 \\ + 53 \\ \hline \end{array}$
$\begin{array}{r} 60 \\ 25 \\ + 13 \\ \hline \end{array}$	$\begin{array}{r} 42 \\ 2 \\ + 32 \\ \hline \end{array}$	$\begin{array}{r} 24 \\ 23 \\ + 41 \\ \hline \end{array}$	$\begin{array}{r} 40 \\ 15 \\ + 43 \\ \hline \end{array}$	$\begin{array}{r} 14 \\ 61 \\ + 12 \\ \hline \end{array}$
$\begin{array}{r} 12 \\ 73 \\ + 2 \\ \hline \end{array}$	$\begin{array}{r} 35 \\ 11 \\ + 31 \\ \hline \end{array}$	$\begin{array}{r} 16 \\ 12 \\ + 30 \\ \hline \end{array}$	$\begin{array}{r} 51 \\ 4 \\ + 32 \\ \hline \end{array}$	$\begin{array}{r} 23 \\ 40 \\ + 15 \\ \hline \end{array}$

Ovoqua:



1, 3, 5, 7, 10, 12, 14, 16, 19, 21, 22, 24, 26, 29, 30, 32, 34, 36, 37, 40, 42, 43, 45, 47, 50

ATIVIDADES DE CIÊNCIA

RESOLVA AS ATIVIDADES A MAIS DAS PÁGINAS: 167 ATÉ 174 REVISANDO TODO CONTEÚDO ESTUDADO.



ATIVIDADES DE HISTÓRIA E ARTE


OBSERVE OS DIREITOS DAS CRIANÇAS NA PÁGINA 188. PRODUZA UM DESENHO COM COLAGENS OU ILUSTRAÇÕES SOBRE O TEMA.

ATIVIDADES DE GEOGRAFIA

RESOLVA AS ATIVIDADES A MAIS DAS PÁGINAS: 215 ATÉ 219 REVISANDO TODO CONTEÚDO ESTUDADO.

Atividades de Educação Religiosa

Atividade



COM AJUDA DO PAPAÍ OU DA MAMÃE FAÇA UMA LISTA DE TODAS AS COISAS QUE VOCÊ DESEJA NO ANO NOVO.

Tenha uma ótima semana!

