

Atividades de Língua Portuguesa



Querida criança,
Vamos recordar o que você já aprendeu?
Realize estas atividades com atenção e muito capricho.
Beijinhos!

1) Como você já sabe, o som de algumas letras é muito parecido, não é mesmo?
Então, circule, em cada par de palavras, as letras diferentes.

DIA
TIA

DADO
TATO

CORDA
CORTA

DENTE
TENTE

a) Agora, leia em voz alta as palavras do exercício anterior, prestando atenção ao som das letras T e D.

2) Escolha as palavras **corretas** para completar estas frases.

corda / corta

a) A menina gosta de pular _____.
Diego _____ o cabelo no salão do Tomé.

radinho / ratinho

b) Gosto de ouvir meu _____ de pilhas.
Vi um _____ correndo pelo quintal.

Um feliz Natal

Maria Carolina Castro

Neste Natal
Quero ganhar:
brilho, amor e alegria.
O brilho das estrelas,
O amor de Jesus.
A alegria de partilhar
e poder amar.

Quero formar:
Uma família unida,
amizades queridas.

Quero ser:
uma boa amiga,
uma criança feliz.

Quero colocar :
Um Feliz Natal !



MªCarolina Castro-aluna do Colégio Loyola - Belo Horizonte (MG)

1) Responda as perguntas abaixo, com atenção:

a) Qual o título do poema? _____

b) Qual a autora do poema? _____

c) O que Carolina quer ganhar neste Natal? _____

d) Como ela quer que sua família seja?

e) Como ela quer ser?

f) E o que ela quer colocar no fim do poema?
Escreva dentro do círculo ao lado.



PINHEIRINHO
 NATAL
 ESTRELA
 PAPAÍ NOEL
 PRESEPIO
 SINO
 SAPATINHO
 PRESENTE
 ANJO
 FAMÍLIA
 NICOLAU
 BOLINHAS



A	D	F	C	V	B	E	T	A	N	I	C	O	L	A	U	U	J	I	O
E	R	B	A	S	R	T	G	O	P	L	T	G	R	O	L	P	T	E	C
Q	A	O	P	I	N	H	E	I	R	I	N	H	O	A	E	D	C	V	G
S	C	L	T	G	H	U	J	I	O	P	L	F	R	V	B	N	M	A	C
E	N	I	E	P	R	F	G	H	N	M	O	L	P	E	D	C	A	Q	U
D	A	N	D	A	U	A	S	D	E	R	F	E	S	T	R	E	L	A	O
A	T	H	C	P	J	A	S	D	F	C	V	R	T	E	D	C	N	H	U
S	A	A	V	A	O	A	S	D	F	R	T	V	B	U	O	P	E	R	U
D	L	S	F	I	L	E	P	R	E	S	E	P	I	O	A	R	D	F	J
E	D	T	R	N	P	D	A	F	G	T	H	U	J	O	O	E	C	S	N
R	F	G	T	O	L	C	S	E	D	F	F	E	D	F	L	S	V	I	M
F	R	H	U	E	M	F	D	T	G	B	A	T	G	I	P	E	F	N	L
H	E	U	B	L	N	T	C	A	S	C	M	O	T	P	I	N	R	O	O
U	Z	J	N	A	A	G	T	I	J	O	I	E	D	F	J	T	Q	O	P
S	A	P	A	T	I	N	H	O	R	F	L	Q	U	E	M	E	A	L	S
U	E	D	F	T	G	H	U	I	M	O	I	T	G	U	N	I	S	E	
J	E	D	R	F	T	U	J	I	O	S	A	U	J	I	H	J	Z	D	
O	A	S	A	N	J	O	R	F	T	H	N	M	O	P	T	O	V	H	F

Atividades da apostila de Língua Portuguesa da página 63 até o final concluir todas as atividades:

Atividades de Matemática

Matemática

1

A pereira tinha 39 peras e o Ricardo colheu 16. Quantas ficaram na pereira ?



R: _____

2


A Márcia tinha 28 berlindes e deu 12 à sua colega. Quantos tem agora ?



R: _____

3

Quantas peras há nas duas cestas ?



R: _____

4

A Sofia vai fazer 2 ramos. Cada ramo leva 10 flores. De quantas flores precisa ?



R: _____



1- Efetue as adições e pinte a árvore de natal.



$$\begin{array}{r} 33 \\ +26 \\ \hline \end{array}$$

$$\begin{array}{r} 42 \\ +13 \\ \hline \end{array}$$

$$\begin{array}{r} 23 \\ +12 \\ \hline \end{array}$$

$$\begin{array}{r} 18 \\ +11 \\ \hline \end{array}$$

$$\begin{array}{r} 15 \\ +10 \\ \hline \end{array}$$

$$\begin{array}{r} 12 \\ +11 \\ \hline \end{array}$$

$$\begin{array}{r} 19 \\ +10 \\ \hline \end{array}$$

$$\begin{array}{r} 16 \\ +12 \\ \hline \end{array}$$

$$\begin{array}{r} 32 \\ +13 \\ \hline \end{array}$$

$$\begin{array}{r} 27 \\ +22 \\ \hline \end{array}$$

$$\begin{array}{r} 54 \\ +23 \\ \hline \end{array}$$

{ Adição }

$$\begin{array}{r} +12 \\ +15 \\ \hline \end{array}$$

$$\begin{array}{r} +32 \\ +27 \\ \hline \end{array}$$

$$\begin{array}{r} +13 \\ +7 \\ \hline \end{array}$$

$$\begin{array}{r} +28 \\ +12 \\ \hline \end{array}$$

$$\begin{array}{r} +59 \\ +31 \\ \hline \end{array}$$

$$\begin{array}{r} +17 \\ +42 \\ \hline \end{array}$$

$$\begin{array}{r} +23 \\ +9 \\ \hline \end{array}$$

$$\begin{array}{r} +11 \\ +11 \\ \hline \end{array}$$



{ Subtração }

$$\begin{array}{r} -95 \\ -15 \\ \hline \end{array}$$

$$\begin{array}{r} -18 \\ -12 \\ \hline \end{array}$$

$$\begin{array}{r} -32 \\ -11 \\ \hline \end{array}$$

$$\begin{array}{r} -45 \\ -23 \\ \hline \end{array}$$

$$\begin{array}{r} -78 \\ -18 \\ \hline \end{array}$$

$$\begin{array}{r} -63 \\ -42 \\ \hline \end{array}$$


$$\begin{array}{r} -57 \\ -34 \\ \hline \end{array}$$

$$\begin{array}{r} -84 \\ -57 \\ \hline \end{array}$$



ATIVIDADE INTERDISCIPLINAR
LÍNGUA PORTUGUESA – MATEMÁTICA – GEOGRAFIA – CIÊNCIAS DA NATUREZA

1) LEIA:

	<p>OI CRIANÇAS</p> <p>VENHA PARTICIPAR DO NATAL DA ESCOLA!</p> <p>DIA: _____ HORA: _____ LOCAL: _____</p> <p style="text-align: right;">TIA</p>
---	---

A - MARQUE UM X NA OPÇÃO QUE MOSTRA PARA QUE SERVE ESSE TEXTO:

- () DAR UM RECADO.
- () CONTAR UMA PIADA.
- () CONVIDAR PARA UMA FESTA DE NATAL.
- () CONVIDAR PARA UM ANIVERSÁRIO.

B - COMPLETE.

QUAIS FORAM AS CONVIDADAS? _____
QUEM CONVIDOU? _____

2) OBSERVE O DESENHO E ESCREVA UMA FRASE:

A) INTERROGATIVA

B) EXCLAMATIVA

C) AFIRMATIVA



3) A ILUSTRAÇÃO ABAIXO É NATALINA.
QUANDO É COMEMORADO O NATAL?



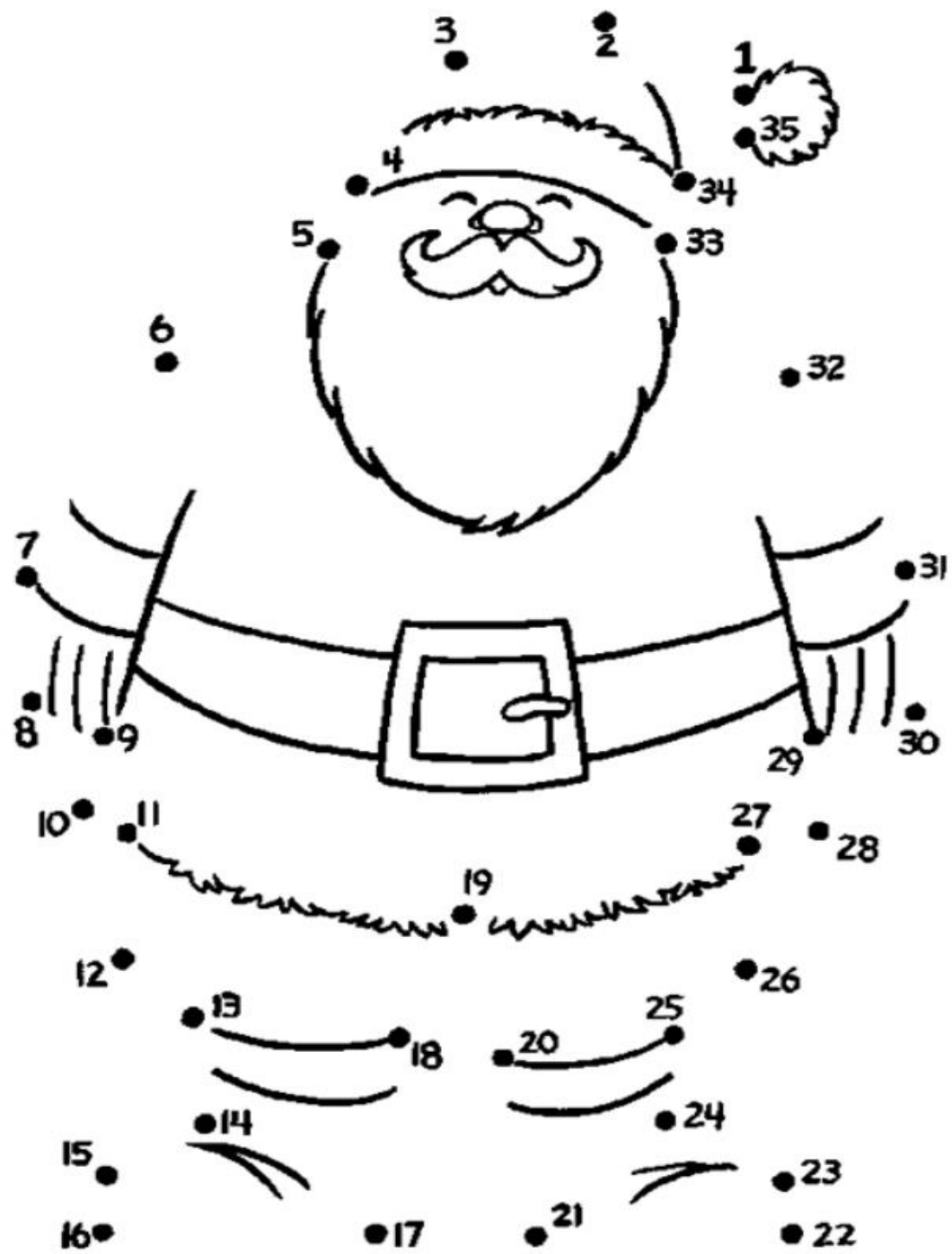
- () NO DIA 24 DE JUNHO.
- () É HOJE.
- () NO DIA 1º DE MAIO.
- () NO DIA 25 DE DEZEMBRO.



Trabalhar na apostila de ciências páginas 200 a 204. Leitura e responder as questões

Atividades de Arte

Ligue os números e pinte papai Noel



BOM TRABALHO A TODOS !! 😊😊😊❤❤❤