

OII!!CRIANÇAS TUDO BEM COM VOCÊS!!!
ENTÃO VAMOS ESTUDAR!!!

Aulas do dia 15 de março a 26 de março

Copiar no caderno de Língua Portuguesa e Matemática o cabeçalho

Centro Educacional Municipal Frei Silvano

Diretora: Tatiana Guerra

Professora:

Aluno(A):

Turma:

Turno:

Ano: 2021

Atividades de Língua Portuguesa

Copiar no caderno de língua portuguesa.

Para lembrar:

As letras do nosso alfabeto podem apresentar-se de duas formas:
maiúscula e minúsculas.

Empregamos as letras maiúsculas nos nomes das pessoas, nomes
de lugares e início de frases.

Pinte as afirmações corretas:

Usamos a letra maiúscula para:

Escrever todas as palavras.

Escrever nomes de pessoas e lugares

Iniciar frases

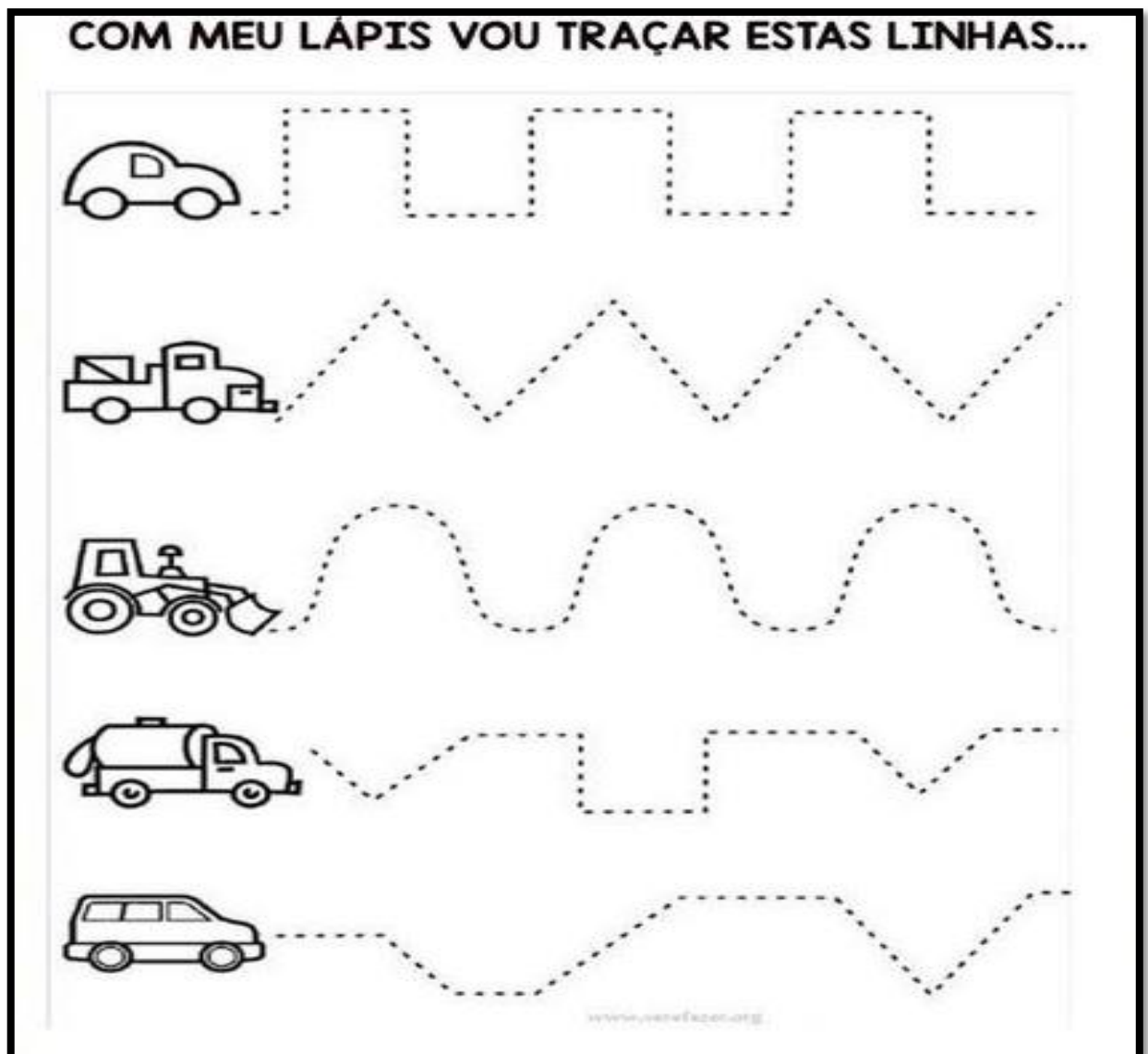
Um adulto deverá ditar as palavras para o aluno:

Ditado:


Caderno, vento, amigo, quadrado, televisão, boneca, hora, Maria, chocolate, igreja, palavra, Camila, Joana, Luzerna.

Colocar as palavras do ditado em ordem alfabética.

Cubra os pontinhos sem tirar o lápis do papel:





Recorte quadradinhos de papel e cole no meio das linhas:

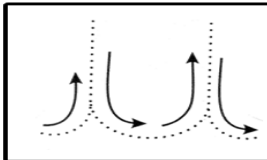
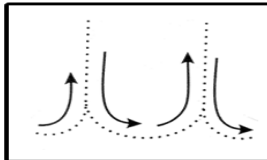
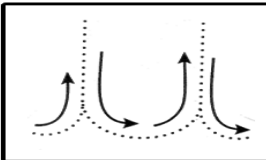
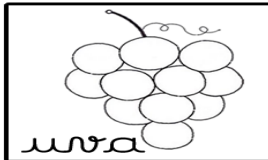
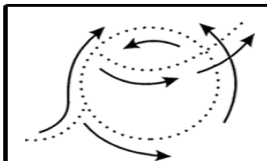
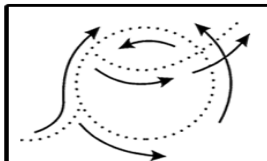
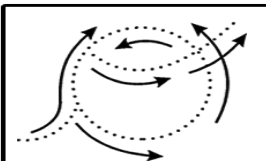
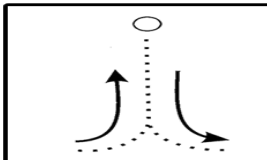
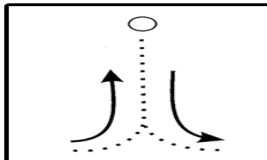
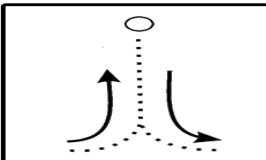
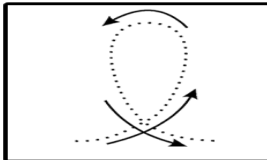
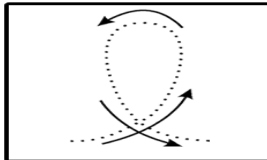
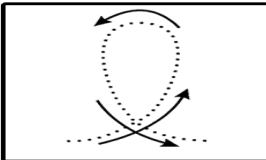
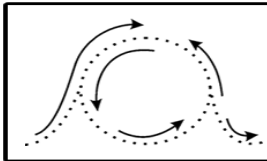
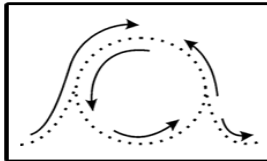
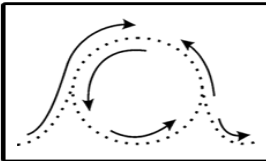



No caderno de caligrafia vocês irão copiar as vogais na linha pequena.





1-CUBRA As VOGAIS, SEGUINDO A DIREÇÃO DAS SETAS.



Atividades de matemática

- Copiar no caderno da matemática

Responda sobre você:

1- Qual é a data do seu nascimento?

2- Qual é a sua idade?

3- Qual é a sua estatura (altura)?

4- Qual é o seu peso?

5- Qual é o número do seu calçado

Escrita correta por extenso dos números:

0-

1-

2-

3-

4-

5-

6-

7-

8-

9-

10-

11-

12-

13-

14-

15-


16-

17-

19-

20-

1 dezena = 10 unidades



Quanto é?

1 dezena + 1 unidade =

1 dezena + 4 unidades =

1 dezena + 6 unidades =

1 dezena + 9 unidades =

1 dezena + 3 unidades =

Meia dezena = 5 unidades

Quanto é?

Meia dezena + 3 unidades =

Meia dezena + meia dezena =

1 dezena + 3 unidades =

Meia dezena + 4 unidades =

Meia dezena + 9 unidades =

Arme e efetue com muita atenção:

1) $25 + 48 =$

6) $18 + 14 =$

2) $32 + 49 =$

7) $54 + 38 =$

3) $28 + 45 =$

8) $25 + 18 =$

4) $37 + 15 =$

9) $49 + 25 =$